



درس نامه + پرسش های چهار گزینه ای

# جامع شیمه تینانیم

## جلد اول

مسعود جعفری، امیر حسین معروفی



کانون  
فرهنگی  
آموزش  
قلم چی  
انتشرالگو

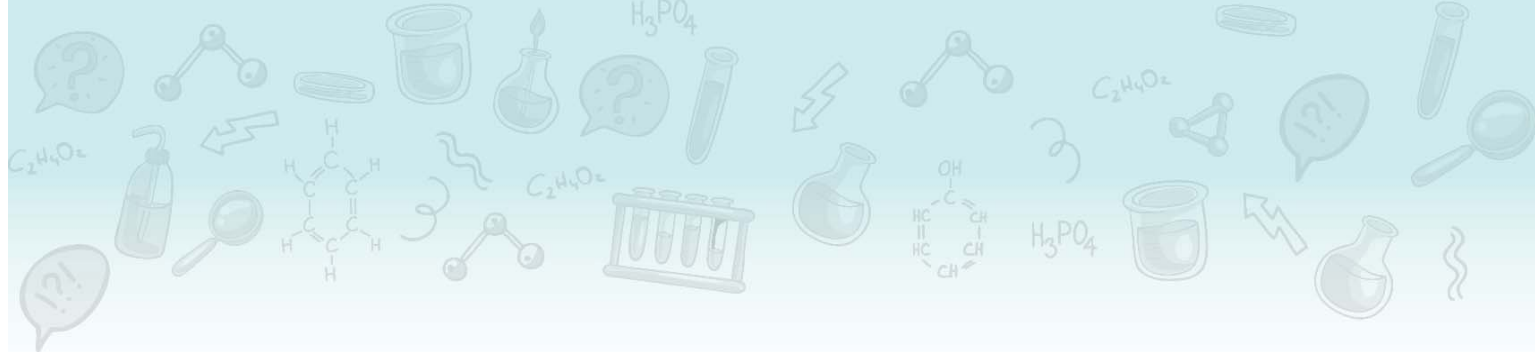
پاسخ های  
تشریحی با  
نکات ترکیبی

درس نامه  
کامل

تست های  
کنکوری و  
ترکیبی

تست های  
شبه ساز  
کنکور

تست  
استاندارد



## مقدمه مولف

### دانش‌آموزان و همکاران گرامی، سلام.

الان که دارید این مقدمه رو می‌خونید، به نظر متوجه شدید که کنکور و به خصوص درس شیمی در کنکور، مسیری پر پیچ و خم و دشوار برای دانش‌آموزان کنکوری است. برای رسیدن به درصدهای بالا گاهی باید سؤالات شمارشی رو حل کنید، گاهی باید مسائل رو در یک یا دو مرحله حل کنید و گاهی هم باید جابجایی دادن رو یاد بگیرید و کلی تکنیک دیگه که در این کتاب قراره با هم یاد بگیریم. متأسفانه هر ساله بسیاری از دانش‌آموزان هستند که با داشتن مطالعه زیاد و مداوم شیمی، در نهایت درصد خوبی در کنکور کسب نکرده‌اند؛ در مورد این عزیزان همیشه گفت که شیمی بلد نیستن؛ چرا که وقتی چندتا سؤال از شون می‌پرسیم، به خوبی مباحث رو توضیح میدن. خب پس مشکل کارشون کجاست!!!

به نظر میرسه که مشکل این عزیزان مطالعه زیاد درسنامه‌های طولانی و بی‌بازده است که برای آن‌ها فرصتی برای حل تست نمی‌گذارد و حتی اگه به حل تست هم برسند، تست‌ها به قدری ضعیف و غیراستاندارد هستند که یا مشابه آن‌ها در کنکور مطرح نمیشه و یا سال‌هاست منسوخ شده است. در یک جمله: «این عزیزان هوشمندانه درس نخونده‌اند». خب حالا باید چکار کرد!!!

در کنار داشتن یک دبیر باتجربه و کاردرست و داشتن یک برنامه منظم و حساب شده برای درس شیمی، به همراه داشتن یک کتاب جامع، بسیار لازم و ضروری است. منظورمون از کتاب جامع، کتابی نیست که درسنامه‌های طولانی، تست‌های زیاد و بی‌فایده با پاسخ‌های تشریحی طولانی داشته باشد که وقت با ارزش شما رو تلف کند. سال‌هاست که تلاش کردیم برای دانش‌آموزانمون در کلاس‌های حضوری، این تعادل (مطالعه درسنامه، حل انواع تست‌ها و...) رو ایجاد کنیم و امیدوار بودیم که بتونیم روزی این کار رو برای همه دانش‌آموزان کشور هم انجام بدیم که به لطف خدا امکان‌پذیر شد...

کتابی که پیش روی شما است، کتاب «جامع شیمی تیتانیم» است که هدف از تألیف آن، همراهی و راهنمایی شما در مطالعه هوشمندانه درس شیمی و رسیدن به درصد مدنظرتون در کنکور سراسری است. در ادامه چند نمونه از ویژگی‌های این کتاب رو آوردیم:

- ۱ هر فصل، بر اساس حجم، اهمیت و نوع تست‌ها به چند بخش تقسیم شده تا بتوانید مطالب را با تمرکز بیشتری مطالعه کنید و با مطالعه چند صفحه درسنامه، بتوانید خیلی سریع به سراغ تست‌ها بروید.
- ۲ در درسنامه، مطالب مهم در قالب «توجه» و «کادر نکته» آورده شده است. حتی برخی قسمت‌هایی که به نظرمون رسیده که ممکن هست شما مطلبی رو اشتباه متوجه شوید، با عنوان «اشتباه نکنید» و «توضیح»، قرار داده‌ایم تا مانع از اشتباه شما شویم.
- ۳ از قدیم گفتن یکی از کارهای کتاب جامع، جمع‌بندی مطالب است. برای همین در درسنامه‌های این کتاب، هر جا لازم بوده براتون کادر جمع‌بندی آوردیم.
- ۴ از درسنامه که بگذریم، می‌رسیم به تست‌ها! در تست‌ها تمام نکات کتاب درسی و کنکوری رو مطرح شده است. هر بخش، با تست‌های ساده شروع می‌شود و به تست‌های «سطح دوم» می‌رسیم که یا دشوار هستند و یا ایده نو و جدیدی دارند.



۵ با توجه به تست‌های مطرح شده در کنکورهای سال‌های اخیر که تعداد زیادی از آن‌ها شمارشی ۴ یا ۵ موردی هستند، بخش زیادی از تست‌های مفهومی این کتاب، از نوع شمارشی ۴ یا ۵ موردی هستند؛ پس با حل تست‌های این کتاب، حل تست‌های شمارشی کنکور براتون به سادگی آب خوردن خواهد شد.

۶ خیلی از دانش‌آموزان بیان می‌کنند که یکی از کسل‌کننده‌ترین کارها، مطالعهٔ پاسخنامهٔ تشریحی تست‌ها است. برای همین سعی کردیم پاسخ تست‌ها رو به شکلی بنویسیم که مطالعهٔ آن‌ها ساده و البته مؤثر باشد. ضمناً در پاسخنامه، کادرهای نکات و نکات ترکیبی آورده شده که با مطالعهٔ آن‌ها کلی از مطالب مهم و ترکیبی رو یاد می‌گیرید.

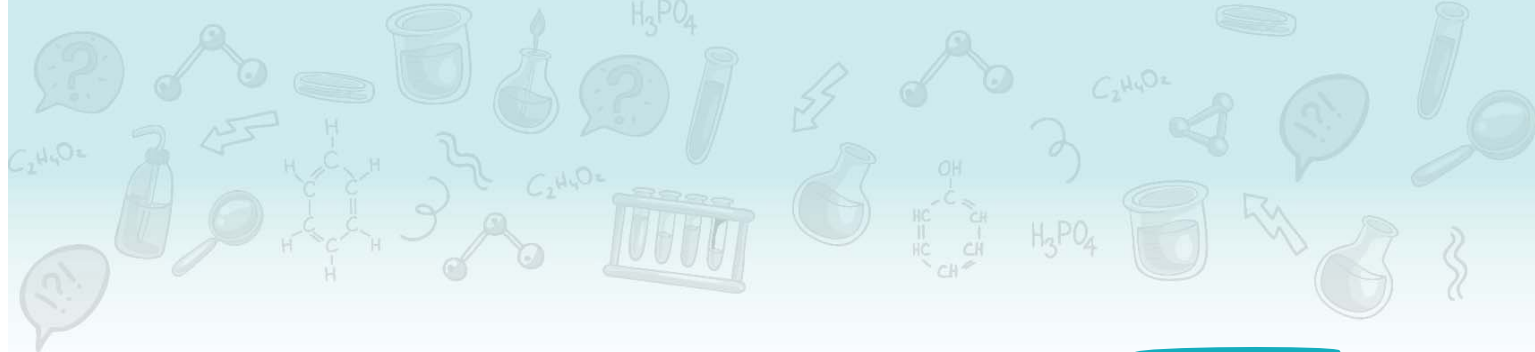
۷ اگه فکر کردید که ما شما رو در تقابل با مسائل و انجام محاسبات ریاضی اون‌ها تنها می‌ذاریم، سخت در اشتباه هستید، چون در پاسخنامهٔ مسائل، ترفندهای محاسباتی مثل «تخمین زدن»، «ساده کردن بدون توجه به صفر و اعشار» و ... رو آوردیم که با بررسی آن‌ها سرعت انجام محاسباتتون هم بیشتر می‌شه.

**کلام آخر:** کتاب ما، قطعاً ماحصل یک کار گروهی و منسجم بوده است. بدون یاری و مهربانی و دقت دوستانی که در زیر نامشان را می‌آوریم، قطعاً کار ما به سرانجام نمی‌رسید:

- از دانشجویان با دقت که از نخبگان کشور هستند، خانم ترنم توکلی (رتبهٔ ۱۰ کنکور ۱۴۰۱)، آقایان عرشیا شفیعی (رتبه ۷۶ کنکور ۱۴۰۱)، کارو محمدی، مهدی شفیعی سروسستانی، علی کرم‌پور محمد آبادی و آرمین عظیمی که ویراستاری و نمونه‌خوانی کتاب بر عهدهٔ آن‌ها بود، سپاسگزاریم.
- از خانم مریم احمدی تایپیست و صفحه‌آرا که برای به ثمر رسیدن این کتاب، سنگ تمام گذاشتند و شب و روز برای تولید به موقع این کتاب از جان مایه گذاشتند و آقای سامان شاهین‌پور طراح گرافیک و رسام خوش‌سلیقه سپاس ویژه‌ای داریم.

سربلند و اثرگذار باشید

**جعفری، معروفی**



## فهرست مطالب

### شیمی دهم

#### © فصل اول - کیهان، زادگاه الفبای هستی

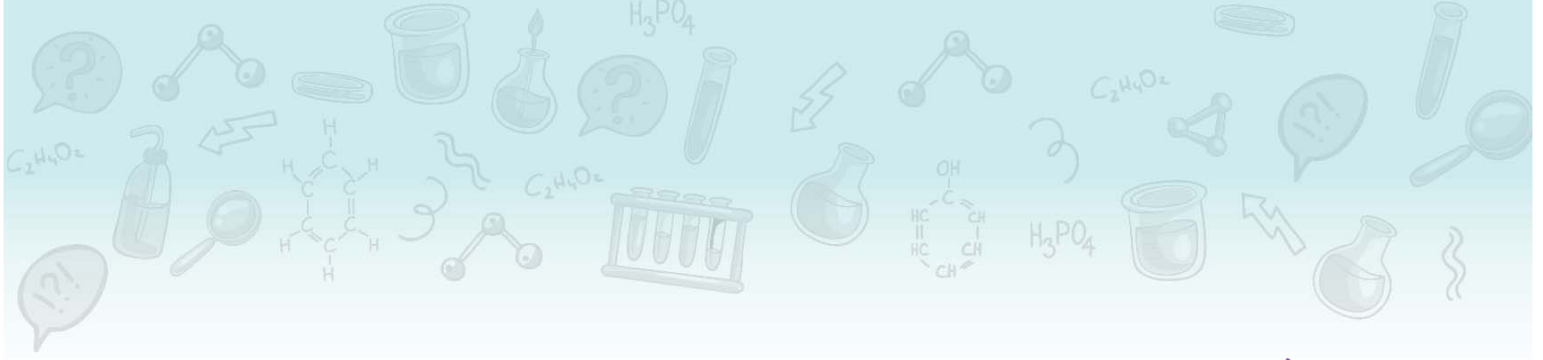
۲	بخش اول
۱۶	بخش دوم
۲۷	بخش سوم
۳۷	بخش چهارم
۴۹	بخش پنجم

#### © فصل دوم - ردپای گازها در زندگی

۶۶	بخش اول
۷۷	بخش دوم
۸۹	بخش سوم
۱۰۳	بخش چهارم
۱۱۵	بخش پنجم

#### © فصل سوم - آب، آهنگ زندگی

۱۳۴	بخش اول
۱۴۲	بخش دوم
۱۵۵	بخش سوم
۱۶۹	بخش چهارم
۱۸۷	بخش پنجم



## شیمی یازدهم

### © فصل اول - قدر هدایای زمینی را بدانیم

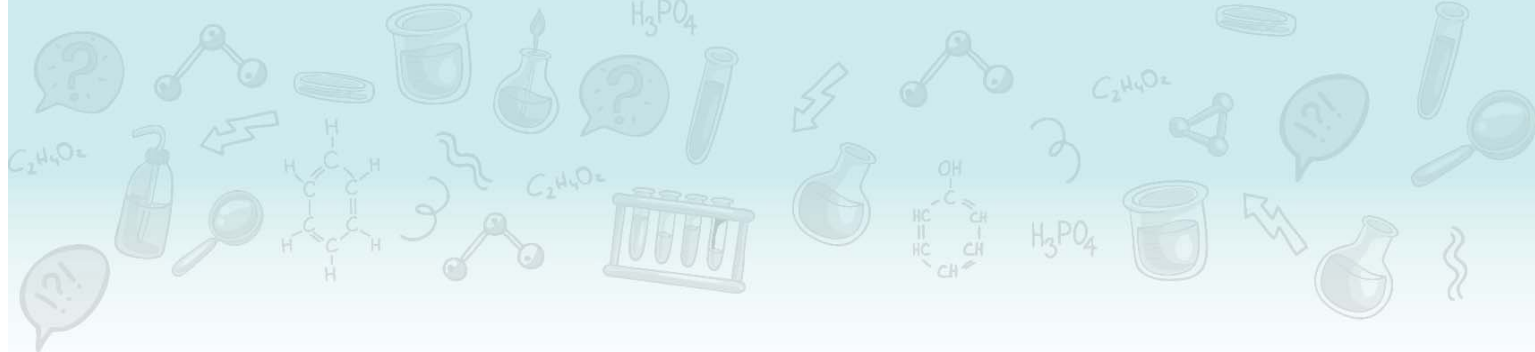
۱۹۸	.....	بخش اول
۲۱۴	.....	بخش دوم
۲۲۶	.....	بخش سوم
۲۴۰	.....	بخش چهارم
۲۵۶	.....	بخش پنجم

### © فصل دوم - در پی غذای سالم

۲۷۴	.....	بخش اول
۲۸۷	.....	بخش دوم
۳۰۱	.....	بخش سوم
۳۱۶	.....	بخش چهارم
۳۲۷	.....	بخش پنجم
۳۴۹	.....	بخش ششم

### © فصل سوم - پوشاک، نیازی پایان‌ناپذیر

۳۶۶	.....	بخش اول
۳۸۱	.....	بخش دوم
۳۹۳	.....	بخش سوم
۴۰۶	.....	بخش چهارم



## شیمی دوازدهم

### ◎ فصل اول - مولکول‌ها در خدمت تندرستی

۴۱۶	.....	بخش اول
۴۳۶	.....	بخش دوم
۴۵۲	.....	بخش سوم
۴۶۳	.....	بخش چهارم
۴۷۷	.....	بخش پنجم

### ◎ فصل دوم - آسایش و رفاه در سایه شیمی

۴۹۶	.....	بخش اول
۵۱۵	.....	بخش دوم
۵۳۰	.....	بخش سوم
۵۴۸	.....	بخش چهارم
۵۶۰	.....	بخش پنجم

### ◎ فصل سوم - شیمی جلوه‌ای از هنر، زیبایی و ماندگاری

۵۷۶	.....	بخش اول
۵۸۸	.....	بخش دوم
۶۰۱	.....	بخش سوم
۶۲۰	.....	بخش چهارم

### ◎ فصل چهارم - شیمی، راهی به سوی آینده‌ای روشن‌تر

۶۳۰	.....	بخش اول
۶۴۳	.....	بخش دوم
۶۵۵	.....	بخش سوم
۶۶۶	.....	بخش چهارم
۶۹۰	.....	بخش پنجم

### ◎ آزمون سراسری

۷۰۷	.....	کنکور ۱۴۰۲ (نوبت دوم) رشته ریاضی
۷۱۰	.....	کنکور ۱۴۰۲ (نوبت دوم) رشته تجربی

۷۱۵	.....	پاسخنامه کلیدی
-----	-------	----------------





فصل اول ۱۰

کیهان، زادگاه الفبای هستی

## فصل اول کیان، زادگاه الفبای هستی

## بخش اول

دانش آموز عزیز، در این بخش قراره، مطالب زیر رو یاد بگیریم:

- شناخت کیان
- ایزوتوپ (هم مکان)
- نحوه پیدایش عناصرها
- ایزوتوپ های هیدروژن
- ذره های زیراتمی، عدد اتمی و عدد جرمی
- کاربرد رادیوایزوتوپ ها
- نماد شیمیایی عناصرها

قبل از مطالعه هر بخش، سعی کنید هر آنچه در مورد این مطالب در ذهن دارید را به یاد بیارید و روی یک تکه کاغذ بنویسید.

## شناخت کیان



۱ شواهد تاریخی نشان می دهد که انسان اولیه با نگاه به آسمان و مشاهده ستارگان در پی فهم نظام و قانونمندی در آسمان بوده و همواره به دنبال پاسخ هایی برای پرسش های بنیادی خود است.

- برخی پرسش های بنیادی: ۱- هستی چگونه پدید آمده است؟ ← پاسخ این پرسش در قلمروی علم تهرپی نمی گنجه!
- ۲- جهان کنونی چگونه شکل گرفته است؟ ۳- پدیده های طبیعی چرا و چگونه رخ می دهند؟ ← پاسخ این پرسش ها در قلمروی علم تهرپی هست.
- ۲ زمین در برابر عظمت آفرینش همانند آزمایشگاه بسیار کوچکی است که دانشمندان با آزمایش های گوناگون در آن، در تلاش برای یافتن پاسخ پرسش های خود هستند.
- \* توجه شیمی دان ها با مطالعه خواص و رفتار ماده، همچنین برهم کنش نور با ماده، به اطلاعات مهمی در مورد جهان هستی دست یافته اند و این روند ادامه داره ...

## ووایجر ۱ و ۲



- ۱ دانشمندان برای شناخت بیشتر سامانه خورشیدی، دو فضایی وویجر ۱ و ۲ را به فضا پرتاب کردند.
- ۲ مأموریت وویجر ۱ و ۲، تهیه و ارسال شناسنامه فیزیکی و شیمیایی سیاره های مشتری، زحل، اورانوس و نپتون بوده است.
- + توضیح چهار سیاره مشتری، زحل، اورانوس و نپتون جزء سیاره های گازی (بیرونی) سامانه خورشیدی هستند.
- برخی اطلاعات شناسنامه یک سیاره: ۱- نوع عنصرهای سازنده سیاره ۲- ترکیب های شیمیایی موجود در اتمسفر سیاره ۳- ترکیب درصد مواد موجود در اتمسفر سیاره
- ۳ آخرین تصویری که وویجر ۱، پیش از خروج از سامانه خورشیدی از زمین گرفت از فاصله ۷ میلیارد کیلومتری بوده است.

## زمین و مشتری



- ۱ عناصرها در جهان هستی به صورت ناهمگون توزیع شده اند: از این رو با بررسی نوع و مقدار عنصرهای سازنده برخی از سیاره های سامانه خورشیدی و مقایسه آن با عنصرهای سازنده خورشید و دیگر سیاره ها، می توان به درک بهتری از چگونگی تشکیل عناصرها دست یافت. *آگه موافقی، دو سیاره زمین و مشتری رو با هم مقایسه کنیم.*
- ۲ برخی تفاوت های ظاهری دو سیاره زمین و مشتری: ۱- سیاره مشتری نسبت به سیاره زمین در فاصله دورتری از خورشید قرار گرفته است.
- ۲- هرچه فاصله یک سیاره از خورشید بیشتر باشد، دمای سطحی آن پایین تر است.
- ۳- سیاره مشتری بزرگ ترین سیاره سامانه خورشیدی است: در حالی که سیاره زمین رتبه پنجم را از نظر اندازه در میان سیاره های سامانه خورشیدی دارد.
- ۳ در مورد عناصر سازنده سیاره زمین و مشتری، به چند نکته *هر فای* زیر توجه کنید:

مشتری	درصد فراوانی
H	~75%
He	~24%
C	~0.1%
O	~0.1%
N	~0.1%
S	~0.1%
Ar	~0.1%
Ne	~0.1%

زمین	درصد فراوانی
Fe	~5%
O	~45%
Si	~28%
Mg	~14%
Ni	~0.01%
S	~0.05%
Ca	~0.01%
Al	~0.05%

- ۱- ترتیب فراوانی ۸ عنصر فراوان موجود در سیاره مشتری به صورت زیر است:  
 $H > He > C > O > N > S > Ar > Ne$
- ۲- در میان هشت عنصر فراوان سیاره مشتری عنصر فلزی و شبه فلزی یافت نمی شود و همه آن ها نافلز (H, He, C ...) هستند.
- ۳- در سیاره های گازی، تراکم گازها بسیار زیاد است که این امر منجر به شکل گیری این سیاره ها شده است.
- ۴- فراوان ترین عنصر در سیاره مشتری هیدروژن (با حدود ۹۰ درصد فراوانی) است.
- ۱- ترتیب فراوانی ۸ عنصر فراوان موجود در سیاره زمین به صورت زیر است:  
 $Fe > O > Si > Mg > Ni > S > Ca > Al$
- ۲- در میان هشت عنصر فراوان سیاره زمین، ۵ عنصر فلزی (Fe, Mg, Ni, Ca, Al) و یک عنصر شبه فلزی (Si) و ۲ عنصر نافلزی (O و S) وجود دارد.
- ۳- فراوان ترین عنصر در سیاره زمین آهن (با حدود ۴۰ درصد فراوانی) است.
- ۴- اکسیژن (O) فراوان ترین عنصر در پوسته زمین است؛ این در حالی است که فراوان ترین عنصر در کل کره زمین آهن (Fe) می باشد.



- ۴ اختلاف درصد فراوانی دو عنصر فراوان‌تر در سیاره مشتری، بیشتر از این اختلاف در سیاره زمین است.
- ۵ مقایسه دو عنصر اکسیژن و گوگرد در دو سیاره زمین و مشتری به صورت زیر است:
- اکسیژن و گوگرد: ۱- دو عنصر اکسیژن ( $O$ ) و گوگرد ( $S$ ) جزء عناصر فراوان موجود در هر دو سیاره زمین و مشتری هستند. ۲- عنصر اکسیژن در سیاره مشتری از نظر فراوانی در رتبه (۴) و در سیاره زمین در رتبه (۲) قرار دارد. ۳- عنصر گوگرد در هر دو سیاره از نظر فراوانی در رتبه (۶) قرار دارد. ۴- درصد فراوانی اکسیژن و گوگرد در سیاره زمین بیشتر از سیاره مشتری است.
- ۶ سیاره مشتری بیشتر از جنس گاز و سیاره زمین بیشتر از جنس سنگ است. از این رو چگالی سیاره زمین از سیاره مشتری بیشتر می‌باشد.

## تست

در مورد ۸ عنصر فراوان موجود در سیاره زمین و مشتری، کدام گزینه نادرست است؟

- (۱) آهن، اکسیژن و سیلیسیم سه عنصر فراوان سیاره زمین است.
- (۲) درصد فراوانی اکسیژن و گوگرد در سیاره مشتری کمتر از سیاره زمین است.
- (۳) در سیاره مشتری برخلاف سیاره زمین، عنصر فلزی وجود ندارد.
- (۴) مقایسه درصد فراوانی سه گاز نجیب هلیوم، نئون و آرگون در سیاره مشتری به صورت  $Ar < Ne < He$  می‌باشد.
- نسخ مقایسه درصد فراوانی سه گاز نجیب هلیوم، نئون و آرگون در سیاره مشتری به صورت  $Ne < Ar < He$  است.

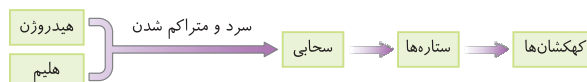
گزینه ۴

## نحوه پیدایش عناصرها

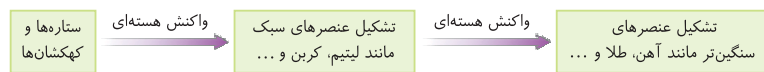
- ۱ دانشمندان با مقایسه نوع و میزان فراوانی عناصرها در سیارات مختلف و کلی شواهد رنگه، توانستند چگونگی پیدایش عناصرها را توضیح دهند. برخی دانشمندان (نه همشون!) بر این باورند که سرآغاز کیهان با انفجاری مهیب (مهبانگ) همراه بوده که طی آن انرژی عظیمی آزاد شده است.
- ۲ پس از پدید آمدن ذره‌های زیراتمی (مانند الکترون، پروتون و نوترون)، عنصرهای هیدروژن و هلیوم پا به عرصه جهان گذاشتند.



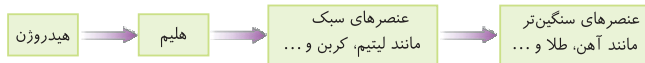
- ۳ با گذشت زمان و کاهش دما، گازهای هیدروژن و هلیوم تولید شده، متراکم شدند و مجموعه‌های گازی به نام سحابی ایجاد کردند. بعدها این سحابی‌ها سبب پیدایش ستاره‌ها و کهکشان‌ها شدند.



- ۴ درون ستاره‌ها همانند خورشید در دماهای بسیار بالا، واکنش‌های هسته‌ای رخ می‌دهد و طی این واکنش‌ها عنصرهای سبک مانند لیتیم، کربن و ... ایجاد می‌شود. همچنین عنصرهای سنگین‌تر مانند آهن، طلا و ... نیز از واکنش هسته‌ای میان عنصرهای سبک، به وجود می‌آیند.

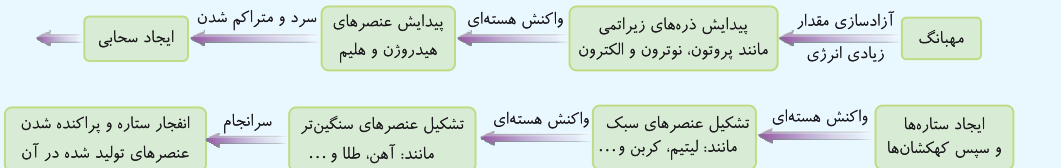


- ۵ ستاره‌ها متولد می‌شوند، رشد می‌کنند و زمانی می‌میرند، مرگ ستاره با یک انفجار بزرگ همراه است که سبب می‌شود عنصرهای تشکیل شده آن در فضا پراکنده شود.
- ۶ روند تشکیل عناصرها به صورت زیر می‌باشد:



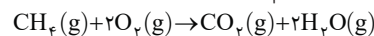
## جمع‌بندی

نحوه پیدایش عناصرها در یک نگاه:



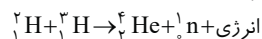
- ۷ خورشید نزدیک‌ترین ستاره به زمین است که دمای بسیار بالایی دارد. انرژی گرمایی و نور خیره‌کننده خورشید به دلیل تبدیل هیدروژن به هلیوم، در واکنش‌های هسته‌ای است.
- ۸ به طور کلی در شیمی دبیرستان، دو نوع واکنش را بررسی می‌کنیم:

• واکنش شیمیایی: در واکنش‌های شیمیایی نه اتمی به وجود می‌آید و نه از بین می‌رود، بلکه پس از انجام واکنش، همان اتم‌ها به شیوه دیگری به یکدیگر متصل می‌شوند.



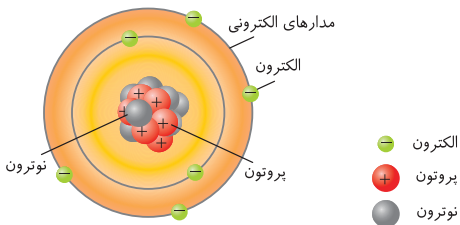
در واکنش‌های شیمیایی که در پدیده‌های طبیعی پیرامون ما و در زندگی روزانه رخ می‌دهند، مقدار انرژی مبادله شده بسیار کم است.

• واکنش هسته‌ای: در واکنش‌های هسته‌ای اتم‌های واکنش‌دهنده به اتم‌های دیگری تبدیل می‌شوند.



در واکنش‌های هسته‌ای انرژی بسیار زیادی آزاد می‌شود؛ به طوری که این میزان انرژی می‌تواند صدها میلیون تن فولاد را ذوب کند.

## ذره‌های زیراتمی، عدد اتمی و عدد جرمی



۱ می‌دانید که به ذره‌هایی که در ساختار یک اتم وجود دارند، ذره‌های زیراتمی می‌گویند. الکترون، پروتون و نوترون ذره‌های زیراتمی هستند.

۲ پروتون‌ها و نوترون‌ها در هسته اتم و الکترون‌ها در لایه‌هایی در پیرامون هسته قرار دارند. شکل مقابل مربوط به اتم کربن است.

• **تعریف عدد اتمی:** تعداد پروتون‌های هسته هر اتم را عدد اتمی ( $Z$ ) می‌گویند. برای نمونه، عدد اتمی عنصر بالا که در هسته خود ۶ پروتون دارد، برابر ۶ است. ( $Z=6$ )

۳ عدد اتمی همه اتم‌های یک عنصر یکسان است و به کمک عدد اتمی می‌توان به نوع عنصر پی‌برد. برای نمونه عنصری با عدد اتمی ۶، کربن نام دارد.

۴ اتم‌ها ذره‌هایی خنثی هستند؛ از این رو، شمار الکترون‌ها با شمار پروتون‌های هسته اتم برابر است. به طور مثال، در اتم بالا، ۶ الکترون وجود دارد.

۵ در هسته همه اتم‌ها به جز  $^1_1\text{H}$ ، تعداد نوترون‌ها برابر یا بیشتر از تعداد پروتون‌ها (عدد اتمی) است.

۶ در هسته اتم هیدروژن ( $^1_1\text{H}$ )، تنها یک پروتون وجود دارد و خبری از نوترون نیست. ما گشتیم، نه‌ورا... نگردد که نیست!

• **کاربردهای عدد اتمی:** ۱- تعیین تعداد پروتون‌ها و الکترون‌های موجود در اتم یک عنصر ۲- تعیین نوع عنصر ۳- تعیین موقعیت عنصر در جدول دوره‌ای

• **اشتباه تکنید** دو یا چند گونه که تعداد الکترون‌های برابری دارند، لزوماً متعلق به یک عنصر نیستند. برای نمونه گونه‌های  $^{10}_1\text{Na}^+$  و  $^{10}_0\text{Ne}$ ،  $^{19}_9\text{F}^-$  الکترون دارند. **نگران نباشید، با یون‌ها در صفحات بعد آشنا خواهید شد.**

• **تعریف عدد جرمی:** به مجموع تعداد پروتون‌ها و نوترون‌های هسته یک اتم، عدد جرمی ( $A$ ) می‌گویند.

تعداد نوترون‌ها + تعداد پروتون‌ها = عدد جرمی ( $A$ )

• **توجه** میان عدد اتمی ( $Z$ ) و عدد جرمی ( $A$ ) رابطه مقابل برقرار است: ( $n$  برابر تعداد نوترون‌ها است).  $A=Z+n$

• **کاربردهای عدد جرمی یک اتم:** ۱- مجموع تعداد پروتون‌ها و نوترون‌های هسته اتم ۲- مجموع تعداد الکترون‌ها و نوترون‌های اتم ۳- تعیین تعداد نوترون‌ها (به کمک عدد اتمی) ۴- پیش‌بینی پرتوزا بودن یا نبودن هسته اتم (به کمک عدد اتمی) ۵- تعیین تقریبی جرم نسبی اتم

• **فیب** حالا عنصرها و یون‌ها را چه بوری باید نمایش بدهیم که با هم قاطی نشن؟!

## نماد شیمیایی عنصرها و یون‌ها



۱ شیمی‌دان‌ها هر عنصر را با نماد ویژه‌ای نشان می‌دهند. در این نمادها عددهای سمت چپ از بالا به پایین به ترتیب عدد جرمی ( $A$ ) و عدد اتمی ( $Z$ ) هستند. (دقت کنید که **E صرف اول واژه Element به معنی عنصرها**)

۲ در جدول دوره‌ای عنصرها، هر عنصر با نماد یک یا دو حرفی نمایش داده می‌شود. دقت کنید که در هر نماد، حرف اول نام لاتین به صورت بزرگ نوشته می‌شود.

نماد شیمیایی عنصرها  $\left\{ \begin{array}{l} \text{اگر تک حرفی باشد} \leftarrow \text{حرف بزرگ} \leftarrow \text{مثال } \text{H, O, K} \text{ و } \dots \\ \text{اگر دو حرفی باشد} \leftarrow \text{حرف اول بزرگ و حرف دوم کوچک} \leftarrow \text{مثال } \text{Li, Al} \text{ و } \dots \end{array} \right.$

## تست

در مورد اتمی با نماد شیمیایی  $^A_Z X$ ، کدام عبارت درست است؟

۱)  $Z$  همان عدد اتمی است که نشان‌دهنده مجموع شمار پروتون‌ها و نوترون‌های اتم است.

۲)  $A$  عدد اتمی نام دارد و برابر با مجموع شمار ذره‌های زیراتمی است.

۳) تفاوت تعداد نوترون‌ها و پروتون‌های هسته اتم برابر  $A-2Z$  است.

۴) عدد جرمی همه اتم‌های یک عنصر یکسان است.

**پاسخ** تعداد پروتون‌های هسته اتم را عدد اتمی ( $Z$ ) و مجموع تعداد پروتون‌ها و نوترون‌های هسته اتم را عدد جرمی ( $A$ ) می‌گویند.

$^A_Z X$ :  $A-Z$  = شمار نوترون‌ها،  $Z$  = شمار پروتون‌ها،  $(A-Z)-Z=A-2Z$  = تفاوت شمار نوترون‌ها و پروتون‌ها  $\Rightarrow Z=Z$

توجه داشته باشید که شمار پروتون‌های هسته (عدد اتمی) همه اتم‌های یک عنصر یکسان می‌باشد.

۳ اتم‌ها در شرایط مناسب با گرفتن و یا از دست دادن الکترون به یون تبدیل می‌شوند. یون‌ها بر اساس بار الکتریکی به دو دسته کاتیون و آنیون تقسیم می‌کنند:

• **کاتیون:** اتم‌ها با از دست دادن یک یا چند الکترون، به گونه‌هایی با بار مثبت تبدیل می‌شوند که به آن‌ها کاتیون گفته می‌شود. نماد شیمیایی کاتیون‌ها به صورت  $E^{n+}$  است. ( $n+$  نشان‌دهنده بار الکتریکی کاتیون بوده و برابر تفاوت شمار الکترون‌ها و پروتون‌ها است).

• **مثال** نماد شیمیایی کاتیون سدیم به صورت  $^{23}_{11}\text{Na}^+$  است. در این گونه، شمار الکترون‌ها یک عدد کمتر از شمار پروتون‌هاست.

• **آنیون:** اتم‌ها با دریافت یک یا چند الکترون، به گونه‌هایی با بار منفی تبدیل می‌شوند که به آن‌ها آنیون گفته می‌شود. نماد شیمیایی آنیون‌ها به صورت  $E^{n-}$  است.

( $n-$  نشان‌دهنده بار الکتریکی آنیون بوده و برابر تفاوت شمار الکترون‌ها و پروتون‌ها است).

مثال ✓ نماد شیمیایی آنیون کلرید به صورت  ${}^{35}_{17}\text{Cl}^-$  است. در این گونه شمار الکترون‌ها یک عدد بیشتر از شمار پروتون‌هاست.

توجه \* در یون‌ها برای محاسبه تعداد الکترون‌ها می‌توان از رابطه مقابل استفاده نمود: بار یون - تعداد پروتون‌ها (Z) = تعداد الکترون‌ها

۴ نیاز به گفتن نیست که برای به دست آوردن تعداد ذره‌های زیراتمی در گونه‌های چنداتمی، تعداد ذره‌های زیراتمی هر یک از اتم‌ها را با هم جمع می‌کنیم. برای نمونه تعداد ذره‌های زیراتمی در  $\text{H}_2\text{O}$  که دارای یک اتم  ${}^8_8\text{O}$  (۸ پروتون، ۸ الکترون و ۸ نوترون) و ۲ اتم  ${}^1_1\text{H}$  (۱ پروتون، ۱ الکترون و صفر نوترون) است، برابر است با:  $2(1) + 8 = 10$  = تعداد الکترون‌ها،  $2(1) + 8 = 10$  = تعداد پروتون‌ها:  $\text{H}_2\text{O}$

توجه \* در یون‌های چنداتمی، محاسبه تعداد پروتون‌ها و نوترون‌ها همانند گونه‌های چنداتمی خنثی است ولی برای محاسبه تعداد الکترون‌ها می‌توان از رابطه زیر استفاده کرد:

بار یون - مجموع تعداد پروتون‌های اتم‌ها = تعداد الکترون‌ها در یون‌های چنداتمی

تست

تعداد الکترون‌ها در یون  $\text{PH}_4^+$  کدام است؟

۱۸ (۱)      ۱۹ (۲)      ۲۰ (۳)      ۲۱ (۴)

پاسخ  $\text{PH}_4^+$  دارای یک اتم  ${}^{31}_{15}\text{P}$  (۱۵ پروتون، ۱۵ الکترون و ۱۶ نوترون) و ۴ اتم  ${}^1_1\text{H}$  (۱ پروتون، ۱ الکترون و صفر نوترون) است.

$18 = (+1) - 19 =$  بار یون - مجموع تعداد پروتون‌ها = تعداد الکترون‌ها در  $\text{PH}_4^+$        $19 = 15 + 4(1) =$  تعداد پروتون‌ها در  $\text{PH}_4^+$

گزینه ۱

مسائل ذره‌های زیراتمی

یکی از انواع سؤالاتی که از این بخش مطرح می‌شود، مسائل مربوط به تعیین عدد اتمی، تعداد ذره‌های زیراتمی و ... است. با توجه به این نکته که در هسته یک اتم، تعداد نوترون‌ها برابر یا بیشتر از تعداد پروتون‌ها است ( $n \geq Z$ )، می‌توان این مسائل را حل نمود. تست پایین رو ببین ...

تست

عدد جرمی عنصر X برابر ۹۲ و تعداد نوترون‌ها  $1/3$  برابر تعداد پروتون‌ها است. تعداد پروتون‌های این عنصر کدام است؟

۳۶ (۱)      ۴۰ (۲)      ۵۲ (۳)      ۶۳ (۴)

پاسخ  $X: Z + n = 92, \frac{n}{Z} = 1/3 \Rightarrow Z + (1/3Z) = 92 \Rightarrow 4/3Z = 92 \Rightarrow Z = 40$

گزینه ۲

توجه \* در مسائلی که تفاوت ذره‌های زیراتمی در یک گونه داده می‌شود، برای راحتی و سرعت در حل مسئله، متناسب با داده‌های مسئله می‌توانیم از یکی از دو فرمول زیر استفاده کنیم:

الف) اگر تفاوت تعداد نوترون‌ها و پروتون‌ها داده شده بود: 
$$Z = \frac{\text{تفاوت تعداد نوترون‌ها و پروتون‌ها} - \text{عدد جرمی (A)}}{2}$$

ب) اگر تفاوت تعداد نوترون‌ها و الکترون‌ها داده شده بود: 
$$Z = \frac{\text{بار یون} + (\text{تفاوت تعداد نوترون‌ها و الکترون‌ها}) - \text{عدد جرمی (A)}}{2}$$

در دو تا تست بعدی، در روش دوم، از این دو فرمول استفاده شده است.

تست

اگر در اتم  ${}^{79}\text{A}$  اختلاف شمار نوترون‌ها و پروتون‌ها برابر ۱۱ باشد، این اتم دارای چند الکترون است؟

۴۵ (۱)      ۳۹ (۲)      ۳۴ (۳)      ۲۸ (۴)

پاسخ روش اول: ابتدا تعداد پروتون‌ها را محاسبه می‌کنیم: 
$$A \begin{cases} Z + n = 79 \\ n - Z = 11 \end{cases} \Rightarrow Z + (11 + Z) = 79 \Rightarrow 2Z + 11 = 79 \Rightarrow 2Z = 68 \Rightarrow Z = 34$$

در اتم‌ها تعداد الکترون‌ها با عدد اتمی (Z) برابر است. روش دوم (روش تستی): 
$$Z = \frac{A - (\text{تفاوت تعداد نوترون‌ها و پروتون‌ها})}{2} = \frac{79 - (11)}{2} = 34$$

گزینه ۳

در یون  $\text{X}^{2+}$ ، عدد جرمی برابر ۲۰۷ و اختلاف شمار نوترون‌ها و الکترون‌ها برابر ۴۵ است. عدد اتمی عنصر X کدام است؟

۷۶ (۱)      ۷۸ (۲)      ۸۰ (۳)      ۸۲ (۴)

پاسخ روش اول: 
$$X^{2+} \begin{cases} Z + n = 207 \\ n - e = 45 \end{cases} \xrightarrow{e = Z - 2} \begin{cases} Z + n = 207 \\ n - Z = 43 \end{cases} \Rightarrow Z + (43 + Z) = 207 \Rightarrow 2Z + 43 = 207 \Rightarrow Z = 82$$

روش دوم (روش تستی): 
$$Z = \frac{A - (\text{تفاوت تعداد نوترون‌ها و الکترون‌ها})}{2} = \frac{207 - 45 + 2}{2} = 82$$

گزینه ۴

ایزوتوپ (هم مکان)



همین اول کاری بریم سراغ به تعریف، عنصر چیست؟

۱ عنصر ماده‌ای است که از یک نوع اتم تشکیل شده باشد. برای نمونه منیزیم و هلیوم عنصر به شمار می‌روند؛ زیرا یک نمونه منیزیم حاوی اتم‌های منیزیم و یک نمونه هلیوم حاوی اتم‌های هلیوم است.

ویژگی نماد ایزوتوپ	تعداد پروتون‌ها (عدد اتمی)	تعداد الکترون‌ها	تعداد نوترون‌ها	عدد جرمی (A)
${}^6_3\text{Li}$	۳	۳	۳	۶
${}^7_3\text{Li}$	۳	۳	۴	۷

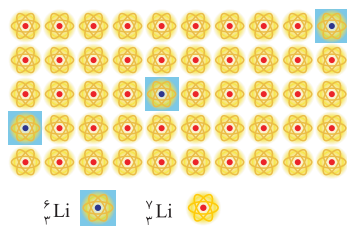
۲ **پایه پروتید** که اغلب در یک نمونه طبیعی از یک عنصر، اتم‌های سازنده جرم یکسانی ندارند. به اتم‌های یک عنصر که دارای عدد اتمی یکسان و عدد جرمی متفاوت هستند، ایزوتوپ گفته می‌شود. به عبارت دیگر، ایزوتوپ‌ها، اتم‌های یک عنصرند که فقط در شمار نوترون‌ها با یکدیگر تفاوت دارند.

✓ **مثال** لیتیم در طبیعت دارای دو ایزوتوپ  ${}^6\text{Li}$  و  ${}^7\text{Li}$  است:

۳ درصد فراوانی هر ایزوتوپ در طبیعت نشان‌دهنده پایداری آن ایزوتوپ است؛ به طوری که هرچه ایزوتوپ پایدارتر باشد، درصد فراوانی آن در نمونه طبیعی بیشتر است.

$$\text{درصد فراوانی ایزوتوپ A} = \frac{\text{تعداد ایزوتوپ‌های A}}{\text{تعداد کل ایزوتوپ‌ها}} \times 100$$

\* **توجه** درصد فراوانی هر یک از ایزوتوپ‌ها را می‌توان به صورت مقابل محاسبه کرد:



۴ لیتیم در طبیعت دارای دو ایزوتوپ  ${}^6\text{Li}$  و  ${}^7\text{Li}$  است که شمار تقریبی ایزوتوپ‌های لیتیم به صورت زیر می‌باشد. به نمونه مناسب در صد فراوانی هر ایزوتوپ توجه کنید:

$$\text{درصد فراوانی } {}^6\text{Li} = \frac{3}{50} \times 100 = 6\%, \quad \text{درصد فراوانی } {}^7\text{Li} = \frac{47}{50} \times 100 = 94\%$$

۵ در نمونه‌های طبیعی از عنصر لیتیم، درصد فراوانی  ${}^7\text{Li}$  بیشتر از  ${}^6\text{Li}$  می‌باشد؛ پس ایزوتوپ  ${}^7\text{Li}$  پایدارتر از  ${}^6\text{Li}$  است.

۶ در یک نمونه طبیعی از عنصر منیزیم، سه ایزوتوپ وجود دارد:

ویژگی نماد ایزوتوپ	تعداد پروتون‌ها (عدد اتمی)	تعداد الکترون‌ها	تعداد نوترون‌ها	عدد جرمی (A)	درصد فراوانی در طبیعت
${}^{24}_{12}\text{Mg}$	۱۲	۱۲	۱۲	۲۴	۷۸٫۷۰٪
${}^{25}_{12}\text{Mg}$	۱۲	۱۲	۱۳	۲۵	۱۱٫۱۷٪
${}^{26}_{12}\text{Mg}$	۱۲	۱۲	۱۴	۲۶	۱۰٫۱۳٪

۷ مقایسه درصد فراوانی و پایداری ایزوتوپ‌ها در نمونه طبیعی منیزیم به صورت زیر است.

${}^{24}\text{Mg} > {}^{25}\text{Mg} > {}^{26}\text{Mg}$  : مقایسه درصد فراوانی و پایداری

۸ خواص شیمیایی اتم‌های هر عنصر به عدد اتمی (Z) آن وابسته است؛ به همین دلیل که ایزوتوپ‌ها همگی خواص شیمیایی یکسانی دارند و در جدول دوره‌ای عناصر تنها یک مکان (یک خانه) را اشغال می‌کنند. به همین دلیل به آن‌ها هم مکان می‌گویند.

۹ ایزوتوپ‌های یک عنصر در خواص فیزیکی وابسته به جرم مانند چگالی، دمای ذوب و جوش با یکدیگر تفاوت دارند.

۱۰ اغلب (نه همه!) هسته‌هایی که نسبت شمار نوترون‌ها به پروتون‌های آن‌ها برابر یا بیشتر از ۱/۵ باشد، ناپایدارند و با گذشت زمان متلاشی می‌شوند.

$$\frac{n}{p} \geq 1/5 \Rightarrow \text{هسته به احتمال زیاد پرتوزا و ناپایدار است}$$

**اشتباه نکنید** در هسته همه اتم‌های پرتوزا نسبت شمار نوترون‌ها به پروتون‌ها برابر یا بزرگ‌تر از ۱/۵ نیست. برای نمونه  ${}^{14}_6\text{C}$ ،  ${}^{56}_{26}\text{Fe}$  و  ${}^{99}_{43}\text{Tc}$  همگی ایزوتوپ‌های پرتوزا و ناپایداری هستند که  $\frac{n}{p}$  آن‌ها کمتر از ۱/۵ است. همچنین، ایزوتوپ‌هایی هستند که  $\frac{n}{p}$  آن‌ها برابر یا بزرگ‌تر از ۱/۵ است ولی پایدارند.

برای نمونه  ${}^{195}_{78}\text{Pt}$  دارای  $\frac{n}{p}$  برابر با ۱/۵ است ولی این ایزوتوپ پایدار می‌باشد.

۱۱ نیم عمر هر ایزوتوپ نشان می‌دهد که آن ایزوتوپ تا چه اندازه پایدار است. نیم عمر، مدت زمانی است که طول می‌کشد تا نیمی از هسته‌های پرتوزا متلاشی شوند.

\* **توجه** هرچه نیم عمر یک ایزوتوپ کوتاه‌تر باشد، زمان ماندگاری آن کمتر بوده و در نتیجه ناپایدارتر است.

جمع بندی

• با بررسی یکی از دو ویژگی ایزوتوپ‌های یک عنصر می‌توان پایداری ایزوتوپ‌ها را با یکدیگر مقایسه نمود:

- درصد فراوانی در طبیعت ← هر چه درصد فراوانی ایزوتوپ بیشتر، ایزوتوپ پایدارتر.
- نیم عمر رادیو ایزوتوپ ← هر چه نیم عمر رادیو ایزوتوپ طولانی‌تر، ایزوتوپ پایدارتر.

• شباهت‌ها و تفاوت‌های ایزوتوپ‌های یک عنصر:

تفاوت ایزوتوپ‌ها	شباهت ایزوتوپ‌ها
۵- پایداری نسبی	۱- عدد اتمی (Z)
۶- برخی خواص فیزیکی وابسته به جرم	۵- خواص شیمیایی
۷- خواص فیزیکی ترکیب‌های حاصل از آن‌ها	۶- موقعیت در جدول دوره‌ای
۸- درصد فراوانی	۷- خواص شیمیایی ترکیب‌های حاصل از آن‌ها
	۳- تعداد پروتون‌ها
	۴- آرایش الکترونی
	۲- تعداد پروتون‌ها
	۳- تعداد الکترون‌ها
	۴- نیم عمر (برای ایزوتوپ‌های پرتوزا)
	۱- عدد جرمی (A)
	۲- تعداد نوترون‌ها
	۳- جرم نسبی

## فصل اول

## تست بخش ۱

سلام به همهٔ دفتر قانم‌های عزیز و آقا پسرهای گل. شروع این فصل با مطالب کاملاً مفهومی پیشنهاد می‌کنم اول یک بار در سنامهٔ این بخش رو با دقت مطالعه کنی.

## شناخت کیهان و نحوهٔ پیدایش عنصرها (صفحه ۱ تا ۴ کتاب درسی)

قلم‌چی

۱ عبارت بیان شده در کدام گزینه درست است؟

- (۱) انسان اولیه با نگاه به آسمان و مشاهده ستارگان در پی فهم چگونگی پیدایش عنصرها بوده است.  
 (۲) انسان در چارچوب علم می‌تواند چگونگی پیدایش هستی را توضیح دهد.  
 (۳) سفر طولانی دو فضایی‌امی وویجر (۱) و (۲) تنها برای شناخت بیشتر خورشید بود.  
 (۴) دو فضایی‌امی وویجر (۱) و (۲) مأموریت داشتند با گذر از کنار سیاره‌هایی مانند مشتری و زحل، شناسنامهٔ فیزیکی و شیمیایی آن‌ها را تهیه و ارسال کنند.

۲ کدام موارد از مطالب زیر درست است؟

- الف) پاسخ پرسش «پدیده‌های طبیعی چرا و چگونه رخ می‌دهند؟» را به کمک قلمروی علم تجربی می‌توان یافت.  
 ب) سفر تاریخی و طولانی دو فضایی‌امی وویجر (۱) و (۲) برای شناخت بیشتر خورشید انجام شده است.  
 پ) مشتری بزرگ‌ترین سیارهٔ سامانهٔ خورشیدی است و این سیاره نسبت به زمین فاصلهٔ بیشتری از خورشید دارد.  
 ت) فضایی‌امی وویجر (۱) و (۲) اطلاعاتی مانند نوع عنصرهای سازنده، ترکیب‌های شیمیایی موجود در اتمسفر و ترکیب درصد این مواد در چهار سیاره از سامانهٔ خورشیدی را تهیه کردند.

ث) در میان هشت عنصر فراوان سیاره‌های مشتری و زمین، عنصر گوگرد در رتبهٔ یکسانی به لحاظ فراوانی قرار دارد.

- (۱) الف)، (پ)، (ت) و (ث) (۲) الف)، (ب) و (ت) (۳) الف)، (پ) و (ت) (۴) ب)، (پ) و (ث)

۳ چند مورد از موارد زیر درست هستند؟

- فراوان‌ترین عنصر در سیارهٔ زمین و مشتری به ترتیب آهن و هیدروژن است.
- در میان هشت عنصر نخست سیارهٔ مشتری، عنصر فلزی وجود ندارد.
- سیارهٔ مشتری برخلاف زمین بیشتر از جنس گاز است.
- درصد فراوانی فراوان‌ترین عنصر سازندهٔ سیارهٔ زمین بیشتر از ۵۰٪ است.
- دمای سطحی سیارهٔ مشتری از زمین پایین‌تر است.

- (۱) ۲ (۲) ۳ (۳) ۴ (۴) ۵

۴ کلمات موجود در کدام گزینه، سه عبارت زیر را به درستی کامل می‌کند؟

- الف) در مقایسهٔ دو سیارهٔ زمین و مشتری، اختلاف درصد فراوانی اولین و دومین عنصر فراوان موجود در سیارهٔ ..... بیشتر از دیگری است.  
 ب) در مقایسهٔ دو سیارهٔ زمین و مشتری، در سیاره‌ای که میانگین دمای کمتری دارد، درصد فراوانی عنصر کربن ..... از درصد فراوانی عنصر اکسیژن است.

پ) عنصر ..... نسبت به عنصر ..... قدمت بیشتری در کیهان دارد.

- (۱) مشتری - بیشتر - آهن - لیتیم  
 (۲) مشتری - بیشتر - لیتیم - طلا  
 (۳) مشتری - کمتر - طلا - کربن  
 (۴) زمین - کمتر - هلیوم - کربن

🗨️ **گه این تست رو درست حل کردی، میشه گفت مقایسهٔ عناصر فراوان دو سیارهٔ زمین و مشتری رو فوب یادگرفتی! پس دقت کن.** 😊

قلم‌چی

۵ چند مورد از عبارت‌های زیر در مورد مقایسهٔ هشت عنصر فراوان سیاره‌های زمین و مشتری درست است؟

- در سیارهٔ زمین، عنصر نافلزی وجود ندارد.
- گوگرد و اکسیژن در هر دو سیارهٔ زمین و مشتری یافت می‌شوند.
- از بین دو سیارهٔ زمین و مشتری، سیارهٔ بزرگ‌تر عمدتاً از گاز تشکیل شده است.
- تفاوت درصد فراوانی دو عنصر فراوان سیارهٔ مشتری بیشتر از این تفاوت در سیارهٔ زمین است.
- اکسیژن دومین عنصر فراوان در سیارهٔ زمین و هلیوم دومین عنصر فراوان در سیارهٔ مشتری است.

- (۱) ۱ (۲) ۲ (۳) ۳ (۴) ۴

۶ چه تعداد از عبارت‌های زیر درست هستند؟

- الف) عنصرها به صورت ناهمگون در جهان هستی توزیع شده‌اند و این یافته به دانشمندان کمک کرد تا بتوانند چگونگی پیدایش عنصرها را توضیح دهند.  
 ب) همهٔ دانشمندان بر این باورند که سرآغاز کیهان با انفجار مهیب (مهبانگ) همراه بود که طی آن انرژی عظیمی آزاد شده است.  
 پ) پس از مهبانگ، نخستین ذره‌هایی که در آن شرایط پدید آمدند، عنصرهای هیدروژن و هلیوم بودند.  
 ت) انرژی مبادله شده در واکنش‌های هسته‌ای بسیار بیشتر از مقدار انرژی مبادله شده در واکنش‌های شیمیایی است که در پدیده‌های طبیعی رخ می‌دهند.

- (۱) ۱ (۲) ۲ (۳) ۳ (۴) ۴

۷ چه تعداد از عبارتهای زیر درست هستند؟

الف) واکنشهای انجام شده درون ستارهها در دماهای بسیار بالا رخ می‌دهند و در این واکنشها مجموع جرم فرآوردههای تولیدی بیشتر از مجموع جرم واکنش‌دهندهها است.

ب) سحابی‌ها مجموعه‌هایی گازی هستند که بلافاصله پس از مه‌بانگ به‌وجود آمده‌اند و در ساختار آنها دو عنصر یافت می‌شود.  
پ) سحابی‌ها عامل پیدایش ستارهها و کهکشانها بوده و بیشتر از جنس عنصرهای سبک مانند هیدروژن، هلیوم و کربن هستند.

ت) اگر شکل زیر نشان‌دهنده روند تشکیل عنصرها باشد، به جای A و B به ترتیب می‌توان دومین و سومین عنصر فراوان موجود در سیاره مشتری را قرار داد.

ث) ستارگان، کارخانه تولید عنصرها هستند و مرگ آنها اغلب با یک انفجار بزرگ همراه است که سبب پراکنده شدن عنصرهای تشکیل شده در آن، در فضا می‌شود.

۱ (۱) ۲ (۲) ۳ (۳) ۴ (۴)

اگر می‌خواهی این تست رو درست حل کنی، قبلی باید دقت کنی. از ما گفتن!

۸ چه تعداد از عبارتهای زیر نادرست‌اند؟

الف) آخرین تصویری که وویجر (۲) از زمین گرفت، از فاصله ۷ میلیارد کیلومتری کره زمین بوده است.

ب) تنها ذره‌های زیراتمی که پس از مه‌بانگ پا به عرصه جهان گذاشتند، الکترون، پروتون و نوترون بودند.

پ) انرژی تولید شده در واکنش تشکیل عنصرهای سبک از هلیوم آنقدر زیاد است که می‌تواند صدها میلیون تن فولاد را ذوب کند.

ت) درصد فراوانی همه عنصرهای موجود در سیاره زمین کمتر از ۵۰٪ است.

ث) پس از مه‌بانگ و با پدید آمدن ذره‌های زیراتمی، با گذشت زمان و کاهش دما، سحابی‌ها ایجاد شدند.

۲ (۱) ۳ (۲) ۴ (۳) ۵ (۴)

ذره‌های زیراتمی، عدد اتمی و عدد جرمی (صفحه ۵ کتاب درسی)

این بخش رو با به تست ساره شروع کردیم ولی همه تست‌ها به این سارگی نیستا!

۹ کدام موارد نادرست هستند؟

الف) عدد اتمی همه اتم‌های یک عنصر یکسان است و به کمک عدد اتمی می‌توان به نوع عنصر پی‌برد.

ب) خواص فیزیکی و شیمیایی اتم‌های یک عنصر به عدد جرمی (A) وابسته است.

پ) در هسته همه اتم‌ها تعداد نوترون‌ها برابر یا بیشتر از تعداد پروتون‌ها است.

ت) در اتمی با نماد شیمیایی  ${}^A_Z E$ ، تفاوت تعداد نوترون‌ها و پروتون‌ها برابر A-Z است.

۱ (الف) و (ب) ۲ (پ) و (ت) ۳ (ب)، (پ) و (ت) ۴ (ب) و (ت)

۱۰ تفاوت شمار الکترون‌ها و نوترون‌ها در کدام گونه زیر نصف این تفاوت در  ${}^{127}_{53}I^-$  است؟

۱ (۱)  ${}^{86}_{37}Rb$  ۲ (۲)  ${}^{92}_{41}Nb$  ۳ (۳)  ${}^{65}_{30}Zn$  ۴ (۴)  ${}^{112}_{48}Cd$

۱۱ اگر در یون فرضی  ${}^A_Z X^{3+}$ ، نسبت تعداد نوترون‌ها به الکترون‌ها و نسبت تعداد نوترون‌ها به پروتون‌ها، به ترتیب برابر  $\frac{4}{3}$  و  $\frac{7}{5}$  باشد، عدد جرمی آن برابر

چند است؟  
۱ (۱) ۱۲۶ ۲ (۲) ۱۴۷ ۳ (۳) ۱۵۴ ۴ (۴) ۱۲۳

۱۲ چه تعداد از موارد زیر، عبارت زیر را به درستی کامل می‌کنند؟

قلمچی  $({}^{35}_{17}Cl, {}^{31}_{15}P, {}^{16}_8O, {}^{14}_7N, {}^{12}_6C, {}^1_1H)$

«..... در ..... برابر ..... است.»

• شمار ذرات زیراتمی باردار -  ${}^{26}CN^-$

• مجموع ذره‌های زیراتمی -  ${}^{53}PH_4^+$

۱ (۱) ۲ (۲) ۳ (۳) ۴ (۴)

۱۳ اگر تفاوت شمار نوترون‌ها و پروتون‌ها در  ${}^{79}X$  برابر با ۱۱ باشد، نسبت تعداد نوترون‌ها به پروتون‌ها به تقریب کدام است؟

۱ (۱)  $1/1$  ۲ (۲)  $1/3$  ۳ (۳)  $1/5$  ۴ (۴)  $1/7$

۱۴ اگر اختلاف تعداد الکترون‌ها و نوترون‌ها در یون  ${}^{88}A^{2+}$  برابر با ۱۴ باشد، نسبت مجموع تعداد ذره‌های زیراتمی داخل هسته به تعداد الکترون‌ها در این یون کدام است؟

۱ (۱)  $2/5$  ۲ (۲)  $2/44$  ۳ (۳)  $1/48$  ۴ (۴)  $1/38$

۱۵ مجموع ذره‌های زیراتمی یون  $X^{3+}$  برابر ۷۹ و تفاوت شمار نوترون‌ها و الکترون‌ها در آن برابر ۷ است. تفاوت مجموع ذره‌های باردار این یون با شمار

ذره‌های باردار موجود در هسته یون  ${}^{14}_7N^{2-}$  کدام است؟

قلمچی ۱ (۱) ۴۵ ۲ (۲) ۴۲ ۳ (۳) ۳۹ ۴ (۴) ۴۸



۱۶ کدام موارد از مطالب زیر در مورد دو عنصر  $^{112}_{48}\text{Cd}$  و  $^{50}_{23}\text{V}$  نادرست است؟

- الف) مجموع شمار ذره‌های زیراتمی باردار در  $\text{Cd}$ ، ۳ برابر تعداد ذره‌های بدون بار در  $^{59}_{27}\text{Co}$  است.  
 ب) اختلاف تعداد الکترون‌ها در دو یون  $^{122}_{51}\text{Sb}^{3-}$  و  $^{56}_{26}\text{Fe}^{2+}$ ،  $1/2$  برابر اختلاف تعداد پروتون‌ها در دو عنصر  $\text{V}$  و  $\text{Cd}$  است.  
 پ) مجموع شمار ذره‌های زیراتمی در عنصر  $\text{Cd}$ ، ۴ برابر مجموع شمار ذره‌های زیراتمی داخل هسته اتم  $^{40}_{20}\text{Ca}$  است.  
 ت) اختلاف شمار نوترون‌ها و الکترون‌ها در یون  $\text{V}^{3+}$ ، برابر با اختلاف شمار نوترون‌ها و پروتون‌ها در  $^{70}_{31}\text{Ga}$  است.

(۱) الف) و (ب) (۲) (پ) و (ت) (۳) (ب) و (ت) (۴) فقط (ت)

تست بعدی به نکته فنی - مؤثری داره. اول هاش کن، بعد هتماً پاسش رو بررسی کن.

۱۷ اگر در یون  $^{32}\text{A}^{2-}$ ، اختلاف شمار ذرات زیراتمی خنثی و منفی برابر ۲ باشد، اعداد کدام گزینه، تعداد ذرات زیراتمی باردار در یون  $\text{A}^{2-}$  را به درستی نمایش می‌دهد؟

(۱) ۳۶ - ۳۲ (۲) ۳۵ - ۳۱ (۳) ۳۴ - ۳۰ (۴) ۳۲ - ۳۰

قلمچی



قلمچی  
سطح دوم

۱۸ چند مورد از عبارات‌های زیر نادرست هستند؟

- الف) اگر در یون  $X^{-}$ ، تفاوت تعداد نوترون‌ها و پروتون‌ها برابر ۱۰ باشد، تفاوت نوترون‌ها و الکترون‌ها برابر ۱۱ است.  
 ب) اگر در یون  $M^{2+}$ ، تفاوت تعداد نوترون‌ها و الکترون‌ها برابر ۴۷ باشد، عدد اتمی این عنصر برابر ۸۲ است.  
 پ) اگر تفاوت شمار الکترون‌ها و نوترون‌ها در یون  $Z^{2+}$  برابر ۵ باشد، تعداد ذره‌های بدون بار در این اتم برابر ۲۹ است.  
 ت) اگر در یون  $A^{2+}$ ، نسبت تعداد نوترون‌ها به پروتون‌ها برابر  $\frac{3}{2}$  باشد، تعداد الکترون‌های اتم  $\text{A}$  برابر ۸۰ است.

(۱) ۳ (۲) ۱ (۳) ۴ (۴) ۲

ایزوتوپ (هم‌مکان) (صفحه ۵ و ۶ کتاب درسی)

۱۹ چه تعداد از عبارات‌های زیر درست هستند؟

- عنصر ماده‌ای است که تنها از یک نوع اتم تشکیل شده باشد.
- یک نمونه طبیعی از عنصر لیتیم، شامل دو ایزوتوپ بوده و درصد فراوانی ایزوتوپ سنگین‌تر آن، بیشتر است.
- اغلب در یک نمونه طبیعی از یک عنصر معین، اتم‌های سازنده جرم یکسانی ندارند.
- خواص شیمیایی اتم‌های هر عنصر به عدد جرمی آن‌ها وابسته است و به همین دلیل ایزوتوپ‌های یک عنصر خواص شیمیایی یکسانی ندارند.
- مقایسه درصد فراوانی ایزوتوپ‌های منیزیم در طبیعت به صورت:  $^{24}\text{Mg} < ^{25}\text{Mg} < ^{26}\text{Mg}$  است.

(۱) ۲ (۲) ۳ (۳) ۴ (۴) ۵


که حتی این تست رو درست هم حل کردی که امیروار ۱۳، باز هم پاسنامه این تست و نکته مومش رو مطالعه کن!

۲۰ چه تعداد از موارد زیر جمله داده شده را به درستی کامل می‌کند؟

- «ایزوتوپ‌های یک عنصر از نظر ..... با هم تشابه و از نظر ..... با هم تفاوت دارند.»
- تعداد پروتون‌های موجود در هسته - خواص شیمیایی
  - تعداد نوترون‌های موجود در هسته - خواص فیزیکی وابسته به جرم
  - شمار ذره‌های با بار منفی پیرامون هسته - مکان قرارگیری در جدول تناوبی
  - عدد اتمی - میزان فراوانی در طبیعت و پایداری
  - خواص شیمیایی - شمار ذره‌های بدون بار

(۱) صفر (۲) ۱ (۳) ۲ (۴) ۳

۲۱ با توجه به شکل زیر که نمونه‌ای طبیعی از ایزوتوپ‌های لیتیم را نشان می‌دهد، کدام موارد از مطالب زیر نادرست است؟



- الف) در ۹۴٪ از اتم‌های لیتیم، نسبت شمار نوترون به پروتون بزرگ‌تر از واحد است.  
 ب) فراوانی ایزوتوپ سنگین‌تر این عنصر بیش از ۱۶ برابر ایزوتوپ سبک‌تر است.  
 پ) دو اتم نشان داده شده از لحاظ تمایل برای از دست دادن الکترون یکسان هستند، اما هسته ایزوتوپ سنگین‌تر پایداری بیشتری دارد.  
 ت) در نمونه نشان داده شده ۱۹۴ نوترون دیده می‌شود.

(۱) الف)، (ب) و (پ) (۲) (ب) و (ت) (۳) (ب)، (پ) و (ت) (۴) (پ) و (ت)



۲۲ با استفاده از ایزوتوپ‌های هیدروژن ( $^1_1\text{H}$  و  $^2_1\text{H}$ ) و ایزوتوپ‌های کربن ( $^{12}_6\text{C}$  و  $^{13}_6\text{C}$ ) به ترتیب چند نوع مولکول متان با فرمول مولکولی  $\text{CH}_4$  می‌توان ساخت و چند مولکول متان با جرم متفاوت می‌توان نوشت؟ (عدد جرمی برابر با جرم اتمی فرض شود.)

(۱) ۵ - ۸ (۲) ۶ - ۸ (۳) ۵ - ۱۰ (۴) ۶ - ۱۰

قلمچی

۲۳ کدام یک از گزینه‌های زیر نادرست است؟

- ۱) ایزوتوپ‌های پرتوزا و ناپایدار یک عنصر رادیوایزوتوپ نامیده می‌شوند.
- ۲) هر چه درصد فراوانی یک ایزوتوپ در طبیعت بیشتر باشد، آن ایزوتوپ پایدارتر است.
- ۳) هسته ناپایدار ایزوتوپ‌های پرتوزا اغلب بر اثر متلاشی شدن، افزون بر ذره‌های پرانرژی، مقدار زیادی انرژی هم آزاد می‌کنند.
- ۴) همه هسته‌هایی که نسبت شمار نوترون‌ها به پروتون‌های آن‌ها برابر یا بزرگ‌تر از ۱/۵ باشد، ناپایدار هستند.

۲۴ در اغلب هسته‌هایی که ناپایدار هستند و با گذشت زمان متلاشی می‌شوند، چه تعداد از روابط زیر برقرار نیست؟

- $\frac{\text{تعداد ذرات بدون بار}}{\text{مجموع ذرات باردار}} \geq 0.75$
- $\frac{\text{تعداد پروتون‌ها}}{\text{تعداد نوترون‌ها}} \geq \frac{2}{3}$
- $\frac{\text{عدد جرمی}}{\text{عدد اتمی}} \geq \frac{2}{5}$
- $\frac{\text{مجموع شمار ذرات زیراتمی}}{\text{تعداد پروتون‌ها}} \geq \frac{3}{5}$

۱ (۱)      ۲ (۲)      ۳ (۳)      ۴ (۴)

در این تست فیلی باید مواست جمع باشه!

۲۵ اگر به هسته عنصر  ${}_{18}^{40}\text{X}$ ، دو پروتون اضافه کنیم، مجموع ذرات زیراتمی آن با مجموع ذرات زیراتمی عنصر  ${}_{a}^{2a+3}\text{E}$  برابر خواهد شد. گونه E با چه تعداد

- از گونه‌های زیر هم‌مکان است؟
- ۱ (۱)      ۲ (۲)      ۳ (۳)      ۴ (۴)
- «قلمچی»  $\left( {}_{18}^4\text{A} - {}_{19}^{39}\text{B} - {}_{20}^4\text{D} - {}_{19}^4\text{F} - {}_{20}^4\text{G} \right)$

۲۶ اگر دو اتم  ${}_{4Y+2}^{6X-1}\text{A}$  و  ${}_{3X-2}^{9Y+1}\text{B}$  ایزوتوپ یکدیگر باشند و شمار نوترون‌ها در اتم A یک واحد بیشتر از شمار نوترون‌ها در اتم B باشد، حاصل  $\frac{X}{Y}$  کدام است؟

۱/۶ (۱)      ۱/۸ (۲)      ۱/۲ (۳)      ۲/۴ (۴)

۲۷ پاسخ درست هر سه پرسش زیر در کدام گزینه آمده است؟

الف) از بین موارد «شدت واکنش با گاز اکسیژن، نقطه ذوب، مکان در جدول دوره‌ای و مجموع شمار ذره‌های زیراتمی» ایزوتوپ‌های منیزیم در چند مورد با هم تفاوت دارند؟

ب) تفاوت شمار الکترون‌ها و نوترون‌ها در یون  ${}_{28}^{58}\text{Ni}^{2+}$  چند برابر تفاوت شمار پروتون‌ها و نوترون‌ها در  ${}_{38}^{88}\text{Sr}$  است؟

پ) اگر در یون  ${}_{83}^{208}\text{M}^{3-}$  تفاوت شمار الکترون‌ها و نوترون‌ها برابر با ۴۶ باشد، هسته اتم M چگونه است؟

- ۱) ۲ مورد - پرتوزا -  $\frac{1}{3}$  - پرتوزا -  $\frac{1}{3}$  - پرتوزا -  $\frac{1}{3}$  - پرتوزا -  $\frac{1}{3}$  - پرتوزا -  $\frac{1}{3}$
- ۲) یک مورد - پایدار -  $\frac{1}{6}$  - پایدار -  $\frac{1}{6}$  - پایدار -  $\frac{1}{6}$  - پایدار -  $\frac{1}{6}$
- ۳) ۳ مورد -  $\frac{1}{3}$  - پرتوزا -  $\frac{1}{3}$  - پرتوزا -  $\frac{1}{3}$  - پرتوزا -  $\frac{1}{3}$  - پرتوزا -  $\frac{1}{3}$
- ۴) ۲ مورد -  $\frac{1}{6}$  - پایدار -  $\frac{1}{6}$  - پایدار -  $\frac{1}{6}$  - پایدار -  $\frac{1}{6}$  - پایدار -  $\frac{1}{6}$

۲۸ اکسیژن دارای دو ایزوتوپ ( ${}_{8}^{16}\text{O}$  و  ${}_{8}^{17}\text{O}$ ) و هیدروژن دارای ۳ ایزوتوپ ( ${}_{1}^1\text{H}$ ،  ${}_{1}^2\text{H}$  و  ${}_{1}^3\text{H}$ ) است. با این ایزوتوپ چند نوع مولکول آب ( $\text{H}_2\text{O}$ ) می‌توان تولید کرد و ناپایدارترین مولکول آب چند نوترون دارد؟

۱۵ - ۱۰ (۱)      ۱۳ - ۱۰ (۲)      ۱۵ - ۱۲ (۳)      ۱۳ - ۱۲ (۴)

دو تست ببری رو با جون و دل حل کن!

۲۹ اگر تعداد الکترون‌های دو ذره باردار  $X^+$  و  $Y^-$  با یکدیگر برابر باشد و عدد جرمی X به اندازه ۴ واحد بیشتر از Y باشد، چه تعداد از عبارتهای

- زیر همواره درست هستند؟
- تفاوت تعداد نوترون‌ها برابر ۲ است.
- این دو عنصر از نظر خواص فیزیکی وابسته به جرم یکسان هستند.
- عدد اتمی عنصر Y، ۲ واحد بیشتر از عنصر X است.
- میزان پایداری هسته اتم X از Y بیشتر است.

۱ (۱)      ۲ (۲)      ۳ (۳)      ۴ (۴)

۳۰ اگر در یون  $M^{2+}$ ، تفاوت تعداد نوترون‌ها و الکترون‌ها برابر ۳ و مجموع ذره‌های موجود در هسته آن برابر ۲۵ باشد، چه تعداد از عبارتهای زیر درست است؟

- عنصر M دارای ۳ ایزوتوپ پایدار است.
- ایزوتوپي از M که دارای ۱۴ نوترون است، ناپایدارترین هسته را در میان ایزوتوپ‌های طبیعی آن دارد.
- عنصر M یکی از هشت عنصر فراوان سیاره زمین است.
- در یک نمونه طبیعی از عنصر M، با افزایش عدد جرمی، درصد فراوانی کاهش می‌یابد.

۱ (۱)      ۲ (۲)      ۳ (۳)      ۴ (۴)

مسائل نیم‌عمر (صفحه ۶ کتاب درسی)

تا الان که با شما صحبت می‌کنم، از این بخش در کنگور سراسری سوال مطرح نشده ولی کی فبر داره؟ شاید یک تست کنگور امسال از این بخش باشه.

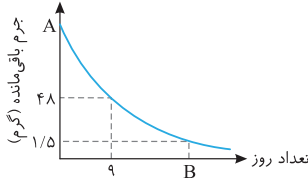
۳۱ اگر نیم‌عمر یک نمونه حاوی رادیوایزوتوپ به جرم ۳۶ گرم برابر با ۸ ساعت باشد، پس از گذشت ۳۲ ساعت چند گرم از آن متلاشی می‌شود و پس از

گذشت ۱۶ ساعت چند گرم از آن باقی می‌ماند؟

۹ - ۳۳/۷۵ (۱)      ۹ - ۲۷ (۲)      ۱۸ - ۳۳/۷۵ (۳)      ۱۸ - ۲۷ (۴)

سطح دوم

- ۳۲ مقادری از عنصر A را در اختیار داریم. اگر نیم‌عمر این عنصر برابر با ۲ هفته باشد و مقدار جرم متلاشی شده از این عنصر پس از گذشت ۴۲ روز به اندازه  $13/5$  گرم کمتر از مقدار جرم متلاشی شده از این عنصر پس از گذشت ۷۰ روز باشد، مقدار اولیه عنصر A کدام است؟  
 ۹۶ (۱) ۱۲۱ (۲) ۱۴۴ (۳) ۱۶۰ (۴)
- ۳۳ نیم‌عمر عنصرهای فرضی M و N به ترتیب برابر با ۳ و ۵ ساعت است. اگر جرم‌های برابر از این دو عنصر فروپاشیده شوند، پس از گذشت ۱۵ ساعت، جرم متلاشی شده از عنصر M چند برابر جرم باقی‌مانده از عنصر N است؟  
 ۰/۲۵ (۱) ۱/۱ (۲) ۷/۷۵ (۳) ۰/۰۳۵ (۴)
- ۳۴ نمودار زیر جرم باقی‌مانده از یک عنصر را در روزهای مختلف نشان می‌دهد. با توجه به این نمودار، اگر بعد از گذشت ۹ روز،  $12/5$  درصد از مقدار اولیه این عنصر باقی‌مانده باشد، مقادیر A و B به ترتیب کدام است؟  
 ۲۴ - ۳۸۴ (۱)  
 ۱۶ - ۳۸۴ (۲)  
 ۱۶ - ۵۷۶ (۳)  
 ۲۴ - ۵۷۶ (۴)



### ایزوتوپ‌های هیدروژن (صفحه ۶ کتاب درسی)

- ۳۵ چه تعداد از موارد برای تکمیل جملهٔ مقابل مناسب است؟ «دربارهٔ ایزوتوپ ..... می‌توان گفت .....»  
 •  $^1\text{H}$  - فراون‌ترین ایزوتوپ هیدروژن است و در هستهٔ آن نوترون وجود ندارد.  
 •  $^2\text{H}$  - درصد فراوانی آن در طبیعت در حدود ۱٪ است.  
 •  $^3\text{H}$  - واکنش‌پذیری بیشتری نسبت به ایزوتوپ‌های  $^1\text{H}$  و  $^2\text{H}$  دارد.  
 •  $^4\text{H}$  - در میان ایزوتوپ‌های ساختگی هیدروژن بیشترین نیم‌عمر را دارد.  
 ۱ (۲) ۲ (۳) ۳ (۴) ۰ (۵)
- ۳۶ کدام گزینه نادرست است؟  
 (۱) شمار نسبت نوترون‌ها به پروتون‌ها در ناپایدارترین ایزوتوپ ساختگی هیدروژن، ۳ برابر شمار نوترون‌های ناپایدارترین ایزوتوپ طبیعی هیدروژن است.  
 (۲) ایزوتوپ‌هایی از هیدروژن که مجموع شمار پروتون و نوترون بیشتر از ۳ دارند، ساختگی هستند.  
 (۳) یک نمونهٔ طبیعی از عنصر هیدروژن مخلوطی از ۲ ایزوتوپ با نیم‌عمر و درصد فراوانی یکسان است.  
 (۴) در میان ایزوتوپ‌های هیدروژن، ۵ رادیوایزوتوپ وجود دارد که یکی از آن‌ها طبیعی و بقیه ساختگی هستند.  
 کدام موارد از مطالب زیر نادرست است؟  
 الف) در پایدارترین ایزوتوپ ساختگی هیدروژن، تفاوت شمار الکترون‌ها و نوترون‌ها برابر با ۳ می‌باشد.  
 ب) تعداد رادیوایزوتوپ‌های هیدروژن برابر با تعداد ایزوتوپ‌های ساختگی این عنصر است.  
 پ) در ناپایدارترین ایزوتوپ طبیعی هیدروژن، مجموع تعداد ذره‌های باردار با تعداد ذره‌های بدون بار برابر است.  
 ت) همهٔ ایزوتوپ‌هایی از هیدروژن که نسبت  $\frac{p}{n} \leq \frac{1}{2}$  دارند، پرتوزا هستند و نیم‌عمر کمتر از یک ثانیه دارند.  
 (۱) (ب)، (پ) و (ت) (۲) (ب) و (ت) (۳) (الف)، (ب) و (ت) (۴) (الف) و (پ)
- ۳۸ چه تعداد از عبارت‌های زیر درست هستند؟  
 الف) با افزایش شمار نوترون‌ها در ایزوتوپ‌های پرتوزای یک عنصر، نیم‌عمر کاهش می‌یابد.  
 ب) در ناپایدارترین ایزوتوپ هیدروژن، ۷ نوترون وجود دارد.  
 پ) همهٔ ایزوتوپ‌هایی که در آن‌ها نسبت شمار نوترون‌ها به پروتون‌ها برابر یا بیش از  $1/5$  باشد، پرتوزا نیستند.  
 ت) هستهٔ ایزوتوپ‌هایی که در مخلوط طبیعی از اتم‌های یک عنصر وجود دارد، پایدار هستند.  
 ث) نسبت درصد فراوانی پایدارترین ایزوتوپ هیدروژن به پایدارترین ایزوتوپ منیزیم حدوداً برابر  $1/25$  است.  
 ۱ (۱) ۲ (۲) ۳ (۳) ۴ (۴)
- ۳۹ چند مورد از مطالب زیر درست است؟  
 الف) شمار رادیوایزوتوپ‌های اتم عنصر هیدروژن، برابر با مجموع شمار ایزوتوپ‌های طبیعی عنصرهای لیتیم و منیزیم است.  
 ب) همهٔ ایزوتوپ‌های هیدروژن که بیش از یک نوترون دارند، پرتوزا هستند.  
 پ) تعداد نوترون‌ها در سبک‌ترین ایزوتوپ ساختگی هیدروژن برابر با تعداد نوترون‌ها در ایزوتوپ سبک‌تر لیتیم است.  
 ت) پایداری هستهٔ هیدروژن با ۴ نوترون بیشتر از پایداری ایزوتوبی از هیدروژن است که نسبت  $\frac{n}{p}$  در آن برابر با ۳ است.  
 ث) شمار نوترون‌های ناپایدارترین ایزوتوپ منیزیم، ۲ برابر عدد جرمی ناپایدارترین ایزوتوپ هیدروژن است.  
 ۲ (۱) ۳ (۲) ۴ (۳) ۵ (۴)



پاسخ‌های تشریحی

# جامع شیمه تینانیم

## جلد دوم

مسعود جعفری، امیر حسین معروفی



انتراگو

پاسخ‌های  
تشریحی با  
نکات ترکیبی

درس‌نامه  
کامل

تست‌های  
کنکوری و  
ترکیبی

تست‌های  
شبیه‌ساز  
کنکور

۳۰۰۰  
تست  
استاندارد

## شیمی ۱: فصل اول

## پاسخ تشریحی

A ۱ ۴ دو فضای پیمای وویجر (۱) و (۲) مأموریت داشتند با گذر از کنار سیاره‌های مشتری، زحل، اورانوس و نپتون شناسنامه فیزیکی و شیمیایی آن‌ها را تهیه کنند و بفراستند. بررسی سایر گزینه‌ها: گزینه (۱): انسان اولیه با نگاه به آسمان و مشاهده ستارگان در پی فهم نظام و قانونمندی آسمان بوده است. (نه پیدایش عنصرها) گزینه (۲): انسان در قلمرو علم تجربی قادر به توضیح چگونگی پیدایش هستی نیست. گزینه (۳): سفر طولانی و تاریخی فضاپیماهای وویجر ۱ و ۲ برای شناخت بیشتر سامانه خورشیدی بود. (نه شناخت خورشید!)

A ۲ ۱ عبارتهای (الف)، (پ)، (ت) و (ث) درست است. بررسی سایر عبارتهای (ب): سفر تاریخی و طولانی دو فضای پیمای وویجر (۱) و (۲) برای شناخت بیشتر سامانه خورشیدی (نه خورشید!) انجام شده است. عبارت (ث): عنصر گوگرد در میان هشت عنصر فراوان سیاره مشتری و زمین رتبه ششم را دارد.

B ۳ ۳ همه موارد به جز مورد چهارم درست هستند. بررسی موارد: مورد اول: فراوانترین عنصر در سیاره مشتری، هیدروژن و فراوانترین عنصر در سیاره زمین، آهن است. مورد دوم: هشت عنصر فراوان سیاره مشتری H، He، C، O، N، S، Ar و Ne هستند که تمام آن‌ها عنصرهای نافلز می‌اند. مورد سوم: سیاره زمین بیشتر از جنس سنگ و سیاره مشتری بیشتر از جنس گاز است. مورد چهارم: درصد فراوانی تمامی عنصرهای تشکیل دهنده سیاره زمین کمتر از ۵٪ است. مورد پنجم: هرچه فاصله یک سیاره از خورشید بیشتر باشد، دمای سطحی آن پایین‌تر است. از آنجا که فاصله سیاره مشتری از خورشید، بیشتر از زمین است، پس مشتری دمای سطحی پایین‌تری دارد.

A ۴ ۲ بررسی عبارت‌ها: عبارت (الف): اختلاف درصد فراوانی دو عنصر فراوان سیاره مشتری (H و He) بیشتر از اختلاف درصد فراوانی دو عنصر فراوان سیاره زمین (O و Fe) است. عبارت (ب): سیاره مشتری به دلیل دوری از خورشید، میانگین دمای کمتری نسبت به سیاره زمین دارد و درصد فراوانی عنصر کربن در آن بیشتر از درصد فراوانی عنصر اکسیژن است. عبارت (پ): لیتیم عنصری سبک است که نسبت به عنصر طلا قدمت بیشتری در کیهان دارد؛ زیرا در کیهان، عنصرهای سنگین‌تر از عنصرهای سبک‌تر تولید شده‌اند.

B ۵ ۴ همه عبارتهای به جز عبارت اول درست هستند. بررسی عبارت‌ها: عبارت اول: در سیاره زمین عناصر نافلز یافت می‌شوند که از فراوانترین آن‌ها می‌توان اکسیژن و گوگرد را نام برد. عبارت دوم: اکسیژن و گوگرد هر دو در سیاره‌های زمین و مشتری یافت می‌شوند با این تفاوت که درصد فراوانی این عناصر در سیاره زمین بیشتر است. عبارت سوم: سیاره مشتری یک سیاره گازی و بسیار بزرگ به حساب آمده و هشت عنصر فراوان‌تر در شرایط محیطی این سیاره همگی گاز هستند. عبارت چهارم: فراوانترین عنصر در سیاره مشتری، هیدروژن بوده که نزدیک به ۹۰٪ آن را در برمی‌گیرد. در حالی که دومین عنصر فراوان، یعنی هلیوم فراوانی بسیار کمی دارد. اما دو عنصر فراوان سیاره زمین (آهن و اکسیژن)، درصد فراوانی نزدیک به یکدیگر دارند. عبارت پنجم: دومین عنصر فراوان در سیاره زمین و سیاره مشتری به ترتیب اکسیژن و هلیوم است.

B ۶ ۲ عبارتهای (الف) و (ت) درست هستند. بررسی عبارت‌ها: عبارت (ب): برخی (نه همه!) دانشمندان بر این باورند که سرآغاز کیهان با انفجار مهیب (مهبانگ) همراه بوده که طی آن انرژی عظیمی آزاد شده است. عبارت (پ): پس از مهبانگ نخستین ذره‌هایی که در آن شرایط پدید آمدند، ذره‌های زیراتمی بودند. عبارت (ت): مقدار انرژی تولید شده در واکنش‌های هسته‌ای بسیار بیشتر از مقدار انرژی مبادله شده در واکنش‌های شیمیایی است.

B ۷ ۲ عبارتهای (ت) و (ث) درست هستند. بررسی عبارت‌ها: عبارت (الف): در واکنش‌های انجام شده درون ستاره‌ها، مجموع جرم فرآورده‌های تولیدی کمتر از مجموع جرم واکنش دهنده‌ها است؛ زیرا مقداری از جرم واکنش دهنده‌ها به انرژی تبدیل می‌شود. عبارت (ب): سحابی‌ها با گذشت زمان و کاهش دما پس از پدید آمدن عنصرهای هیدروژن و هلیوم تولید شده‌اند و نه بلافاصله پس از مهبانگ! عبارت (پ): سحابی‌ها عامل پیدایش ستاره‌ها و کهکشان‌ها هستند و از عنصرهای هیدروژن و هلیوم تشکیل شده‌اند. عبارت (ت): به جای A و B به ترتیب می‌توان عنصرهای «هلیوم» و «کربن» قرار داد که به ترتیب دومین و سومین عنصرهای فراوان در سیاره مشتری هستند. عبارت (ث): ستاره‌ها متولد می‌شوند، رشد می‌کنند و زمانی می‌میرند. مرگ ستاره با یک انفجار بزرگ همراه است که سبب می‌شود عنصرهای تشکیل شده در آن در فضا پراکنده شوند.

C ۸ ۲ عبارتهای (الف)، (ب) و (ث) نادرست است. بررسی عبارت‌ها: عبارت (الف): آخرین تصویری که وویجر (۱) قبل از خروج از سامانه خورشیدی از سیاره زمین گرفت از فاصله ۷ میلیارد کیلومتری بوده است. عبارت (ب): در متن کتاب گفته شده که پس از مهبانگ ذره‌های زیراتمی مانند الکترون، پروتون و نوترون پدید آمده است. پس می‌توان نتیجه گرفت که ذره‌های زیراتمی دیگری نیز وجود دارد که پس از مهبانگ پدید آمده‌اند. عبارت (پ): انرژی تولید شده در واکنش‌های هسته‌ای به قدری زیاد است که می‌تواند صدها میلیون تن فولاد را ذوب کند. عبارت (ت): درصد فراوانی تمام عنصرهای تشکیل دهنده سیاره زمین کمتر از ۵٪ است. عبارت (ث): پس از مهبانگ، ابتدا ذره‌های زیراتمی و سپس هیدروژن و هلیوم ایجاد شدند که با گذشت زمان و کاهش دمای این عناصر، سحابی‌ها ایجاد شدند.

A ۹ ۳ عبارتهای (ب)، (پ) و (ت) نادرست هستند. بررسی عبارت‌ها: عبارت (الف): عدد اتمی یا شمار پروتون‌های اتم‌های یک عنصر مشابه است، از این رو با دانستن عدد اتمی، می‌توان به نوع عنصر پی برد. عبارت (ب): خواص شیمیایی اتم‌های هر عنصر به عدد اتمی (Z) آن وابسته است. این در حالی است که خواص فیزیکی وابسته به جرم اتم‌های یک عنصر به عدد جرمی (A) وابسته است. عبارت (پ): در اتم همه عناصر، به جز H، تعداد نوترون‌ها از تعداد پروتون‌ها بیشتر است. H فاقد نوترون است. عبارت (ت): در اتمی با عدد اتمی  $\frac{A}{Z}E$ ، عدد پروتون و (A-Z) عدد نوترون وجود دارد، پس تفاوت تعداد نوترون‌ها و پروتون‌ها در این عنصر برابر (A-Z) است.

A ۱۰ ۲ ابتدا تفاوت شمار الکترون‌ها و نوترون‌ها را در یون  $^{۱۲۷}_{۵۳}I^{-}$  به دست می‌آوریم:

$$^{۱۲۷}_{۵۳}I^{-}: p=e=۵۳, e=۵۳+۱=۵۴, n=۱۲۷-۵۳=۷۴ \Rightarrow \text{تفاوت تعداد الکترون‌ها و نوترون‌ها} = ۷۴ - ۵۴ = ۲۰$$

سپس تفاوت شمار الکترون‌ها و نوترون‌ها در گونه‌های داده شده در هر گزینه را محاسبه می‌کنیم:

$$^{۸۶}_{۳۷}Rb: p=e=۳۷, n=۸۶-۳۷=۴۹ \Rightarrow \text{تفاوت تعداد الکترون‌ها و نوترون‌ها} = ۴۹ - ۳۷ = ۱۲ \quad \text{گزینه (۱):}$$

$$^{۹۲}_{۴۱}Nb: p=e=۴۱, n=۹۲-۴۱=۵۱ \Rightarrow \text{تفاوت تعداد الکترون‌ها و نوترون‌ها} = ۵۱ - ۴۱ = ۱۰ \quad \text{گزینه (۲):}$$

$$^{۶۵}_{۳۰}Zn: p=e=۳۰, n=۶۵-۳۰=۳۵ \Rightarrow \text{تفاوت تعداد الکترون‌ها و نوترون‌ها} = ۳۵ - ۳۰ = ۵ \quad \text{گزینه (۳):}$$

$$^{۱۱۲}_{۴۸}Cd: p=e=۴۸, n=۱۱۲-۴۸=۶۴ \Rightarrow \text{تفاوت تعداد الکترون‌ها و نوترون‌ها} = ۶۴ - ۴۸ = ۱۶ \quad \text{گزینه (۴):}$$

پس اختلاف تعداد الکترون‌ها و نوترون‌ها در  $^{۹۲}_{۴۱}Nb$  که در گزینه (۲) آمده، نصف این اختلاف در  $^{۱۲۷}_{۵۳}I^{-}$  است.



۱۱۱ B ابتدا از اطلاعات داده شده، نسبت تعداد پروتون‌ها به الکترون‌ها را به دست می‌آوریم:

$$\frac{\text{شمار نوترون‌ها}}{\text{شمار الکترون‌ها}} = \frac{Y}{5} \Rightarrow n = \frac{Y}{5} e \quad (1), \quad \frac{\text{شمار نوترون‌ها}}{\text{شمار پروتون‌ها}} = \frac{4}{3} \quad (2) \xrightarrow{(1),(2)} n = \frac{4}{3} p \Rightarrow \frac{Y}{5} e = \frac{4}{3} p \Rightarrow 21e - 20p = 0$$

از آنجایی که در یون  $X^{3+}$ ، شمار پروتون‌ها سه واحد بیشتر از شمار الکترون‌هاست، پس می‌توان این‌چنین محاسبه کرد:

$$21e - 20p = 0 \xrightarrow{e=p-3} 21(p-3) + 20p = 0 \Rightarrow p = 63$$

همچنین می‌دانیم شمار نوترون‌ها  $\frac{4}{3}$  شمار پروتون‌ها است؛ بنابراین تعداد نوترون‌های این یون برابر  $84 (\frac{4}{3} \times 63)$  بوده و عدد جرمی که حاصل مجموع شمار پروتون‌ها و نوترون‌ها است، برابر  $147 (63+84)$  می‌باشد.

۱۱۲ B موارد دوم و چهارم، عبارت تست را به درستی کامل می‌کنند. بررسی همه موارد:

$\text{NO}_3^+ \begin{cases} e = 7 + 2(8) - 1 = 22 \\ n = 7 + 2(8) = 23 \end{cases} \Rightarrow 22 + 23 = 45$	<p>مورد دوم: مجموع الکترون‌ها و نوترون‌ها:</p>	$\text{CN}^- \begin{cases} e = 6 + 7 + 1 = 14 \\ p = 6 + 7 = 13 \end{cases} \Rightarrow 13 + 14 = 27$	<p>مورد اول: ذرات زیراتمی باردار یعنی الکترون‌ها و پروتون‌ها:</p>
			<p>مورد سوم: ذرات زیراتمی درون هسته یعنی پروتون و نوترون در یون <math>\text{ClO}_2^-</math> برابر است با:</p>

$\text{PH}_4^+ \begin{cases} e = 15 + 4(1) - 1 = 18 \\ p = 15 + 4(1) = 19 \end{cases} \Rightarrow 18 + 19 + 16 = 53$	<p>مورد چهارم: در یون <math>\text{PH}_4^+</math> می‌توان نوشت:</p>	$\text{ClO}_2^- \begin{cases} p = 17 + 2(8) = 33 \\ n = 18 + 2(8) = 34 \end{cases} \Rightarrow 33 + 34 = 67$	<p>مورد سوم: ذرات زیراتمی درون هسته یعنی پروتون و نوترون در یون <math>\text{ClO}_2^-</math> برابر است با:</p>
			<p>مورد دوم: مجموع الکترون‌ها و نوترون‌ها:</p>

۱۱۳ B

★ نکته در سؤالاتی که عدد اتمی و تفاوت شمار پروتون‌ها و نوترون‌های یک اتم داده می‌شود و از شما عدد اتمی را می‌خواهند یا بالعکس، از فرمول زیر استفاده کنید:

$$\text{تفاوت شمار پروتون‌ها با نوترون‌ها} - \text{عدد جرمی} = \text{عدد اتمی}$$

دقت کنید با توجه به این‌که تقریباً در تمامی اتم‌ها ( $^1\text{H}$  به جز  $^1\text{H}$ ) رابطه  $n \geq p$  برقرار است، پس منظور از اختلاف شمار پروتون‌ها و نوترون‌ها در سؤالات مقدار  $(n-p)$  است. مجموع شمار نوترون‌ها و پروتون‌ها برابر ۷۹ و تفاوت آن‌ها برابر ۱۱ است، از این‌رو: **روش اول (تشریحی):**  $n-p=11 \Rightarrow 2n=90 \Rightarrow n=45, p=34$

$$Z = \frac{A - (\text{تفاوت شمار نوترون‌ها و پروتون‌ها})}{2} = \frac{79 - 11}{2} = \frac{68}{2} = 34 \quad \text{روش دوم (تستی):}$$

تعداد نوترون‌ها برابر  $45 (79-34)$  است. در نهایت با توجه به دو روش ذکر شده، نسبت شمار نوترون‌ها به پروتون‌ها به تقریب برابر  $1\frac{1}{3} (\frac{45}{34})$  است.

۱۱۴ B

★ نکته در مسائلی که، یک یون با بار الکتریکی و عدد جرمی و تفاوت شمار الکترون‌ها و نوترون‌ها داده شده و از شما عدد اتمی خواسته می‌شود یا بالعکس، از فرمول

$$\text{بار یون} + (\text{تفاوت شمار الکترون‌ها با نوترون‌ها}) - \text{عدد جرمی} = \text{عدد اتمی}$$

ابتدا با توجه به اطلاعات مسئله، عدد اتمی  ${}^{88}\text{A}^{2+}$  را محاسبه می‌کنیم:

$${}^{88}\text{A}^{2+} \begin{cases} Z+n=88 \\ n-e=14 \end{cases} \xrightarrow{e=Z-2} \begin{cases} Z+n=88 \\ n-Z=12 \end{cases} \Rightarrow Z+(12+Z)=88 \Rightarrow 2Z+12=88 \Rightarrow Z=38 \quad \text{روش اول:}$$

$$Z = \frac{A - (\text{تفاوت نوترون‌ها و الکترون‌ها})}{2} = \frac{88 - 14 + 2}{2} = 38 \quad \text{روش دوم:}$$

سپس تعداد ذره‌های زیراتمی موجود در  ${}^{88}\text{A}^{2+}$  را محاسبه و نسبت تعداد ذره‌های زیراتمی موجود در هسته (یعنی مجموع نوترون و پروتون یا همان عدد جرمی) به

$${}^{88}\text{A}^{2+} \begin{cases} p=38 \\ e=38-2=36 \\ n=88-38=50 \end{cases} \Rightarrow \frac{\text{مجموع تعداد نوترون‌ها و پروتون‌ها}}{\text{تعداد الکترون‌ها}} = \frac{38+50}{36} = \frac{88}{36} = 2\frac{4}{9}$$

$$\frac{38+50}{36} = ? \xrightarrow{\text{تخمین زدن و ساده کردن}} \frac{40+50}{36} = \frac{90}{36} = \frac{5}{2} = 2\frac{1}{2} \quad \text{توضیح محاسبات: پاسخ باید اندکی کوچک‌تر از ۲/۵ باشد. (پاسخ: ۲/۴)} \quad \text{به جای ۳۸ عدد ۴۰ قرار گیرد}$$

۱۱۵ B در یون  $X^{3+}$ ، شمار پروتون‌ها سه واحد بیشتر از شمار الکترون‌ها بوده  $(e=p-3)$  و تفاوت شمار نوترون‌ها و الکترون‌ها در آن برابر ۷  $(n-e=7)$  است.

$$n-e=7, e=p-3 \Rightarrow n-(p-3)=7 \Rightarrow n=p+4$$

از این رو شمار نوترون‌ها، ۴ واحد بیشتر از شمار پروتون‌هاست.

همچنین مجموع ذره‌های زیراتمی این یون، برابر ۷۹ است؛ پس خواهیم داشت:

$$n+p+e=79, n=p+4, e=p-3 \Rightarrow (p+4)+p+(p-3)=79 \Rightarrow 3p=78 \Rightarrow p=26$$

در این یون، شمار پروتون‌ها و الکترون‌ها به ترتیب برابر ۲۶ و ۲۳ بوده و در نتیجه مجموع شمار ذره‌های باردار این یون، یعنی الکترون‌ها و پروتون‌ها برابر با  $49 (23+26)$

است. در یون  ${}^{14}\text{N}^{3-}$ ، شمار ذره‌های باردار موجود در هسته یا همان پروتون‌ها برابر ۷ است؛ پس تفاوت مجموع ذره‌های باردار یون  $X^{3+}$  و شمار ذره‌های باردار موجود

در هسته یون  $\text{N}^{3-}$  برابر  $42 (49-7)$  است.



۱۶ ۴ B فقط مورد (ت) نادرست است. ابتدا تعداد ذره‌های زیراتمی را در هر یک از عنصرهای  ${}_{48}^{112}\text{Cd}$  و  ${}_{23}^{50}\text{V}$  به دست می‌آوریم:

$${}_{23}^{50}\text{V}: e=p=23, n=50-23=27$$

$${}_{48}^{112}\text{Cd}: e=p=48, n=112-48=64$$

$${}_{27}^{59}\text{Co} \begin{cases} e=p=27 \\ n=59-27=32 \end{cases} \Rightarrow \frac{\text{مجموع شمار ذره‌های زیراتمی باردار (یعنی } e \text{ و } p \text{) در Cd}}{\text{تعداد ذره‌های بدون بار (نوترون) در Co}} = \frac{48+48}{32} = \frac{96}{32} = 3$$

بررسی موارد: مورد (الف):

$$\left. \begin{array}{l} {}_{51}^{122}\text{Sb}^{-3} \left\{ \begin{array}{l} \text{تعداد الکترون‌ها در } Z+3=51+3=54 \\ \text{تفاوت تعداد الکترون‌ها} = 54-24=30 \end{array} \right. \\ {}_{26}^{56}\text{Fe}^{2+} \left\{ \begin{array}{l} \text{تعداد الکترون‌ها در } Z-2=26-2=24 \\ \text{تفاوت پروتون‌ها} = 48-23=25 \end{array} \right. \\ {}_{23}^{50}\text{V} \left\{ \begin{array}{l} \text{تعداد پروتون‌های هسته } Z=23 \\ \text{تفاوت پروتون‌ها} = 48-23=25 \end{array} \right. \\ {}_{48}^{112}\text{Cd} \left\{ \begin{array}{l} \text{تعداد پروتون‌های هسته } Z=48 \end{array} \right. \end{array} \Rightarrow \frac{30}{25} = \frac{6}{5} = 1\frac{1}{5}$$

مورد (ب):

$${}_{20}^{40}\text{Ca} \begin{cases} e=p=20 \\ n=40-20=20 \end{cases} \Rightarrow \frac{\text{مجموع ذره‌های زیراتمی در } {}_{48}^{112}\text{Cd}}{\text{مجموع ذره‌های زیراتمی داخل هسته } {}_{20}^{40}\text{Ca}} = \frac{48+48+64}{20+20} = \frac{160}{40} = 4$$

مورد (پ):

$${}_{23}^{50}\text{V}^{3+}: p=23, e=23-3=20, n=50-23=27 \Rightarrow \text{اختلاف تعداد نوترون‌ها و الکترون‌ها} = 27-20=7$$

مورد (ت):

$${}_{31}^{70}\text{Ga}: p=e=31, n=70-31=39 \Rightarrow \text{اختلاف تعداد نوترون‌ها و پروتون‌ها} = 39-31=8$$

۱۷ ۳ C

★ نکته اگر در حل مسائل مربوط به ذرات زیراتمی در یک سؤال به یک آنیون برخوردید، حواستان باشد که عبارت «اختلاف شمار الکترون‌ها و نوترون‌ها» لزوماً به معنای  $(n-e)$  نیست و ممکن است منظور  $(e-n)$  باشد. برای تشخیص اینکه چه موقعی عبارت «اختلاف شمار نوترون‌ها و الکترون‌ها» را معادل  $(n-e)$  و چه زمانی معادل  $(e-n)$  در نظر بگیرید به دو نکته توجه کنید: ۱- اگر تفاوت  $n$  و  $e$  بزرگ‌تر از قدرمطلق بار آنیون بود، عبارت داده شده معادل  $(n-e)$  است. مثال  ${}_{35}^{80}\text{X}^{-}$

۲- اگر تفاوت  $n$  و  $e$  کوچک‌تر یا مساوی قدرمطلق بار آنیون بود، مسئله را یکبار با عبارت  $(e-n)$  و یک بار با عبارت  $(n-e)$  در نظر بگیرید. مثال  ${}_{15}^{31}\text{D}^{3-}$  یا  ${}_{8}^{16}\text{E}^{2-}$

اختلاف الکترون و نوترون برابر ۲ است؛ اما چون این ذره یک آنیون با بار الکتربیکی  $(2-)$  می‌باشد، نمی‌توان با قاطعیت گفت تعداد الکترون یا نوترون بیشتر است. یک بار با  $n-e=2$  و یک بار با  $e-n=2$ ، عدد اتمی را به دست می‌آوریم.

$$\left\{ \begin{array}{l} n-e=2 \\ e=p+2 \end{array} \right. \Rightarrow n-(p+2)=2 \Rightarrow n-p=4$$

$$\left\{ \begin{array}{l} n=18 \\ p=14 \end{array} \right. \Rightarrow {}_{14}^{18}\text{Si}$$

$$A=32 \Rightarrow n+p=32$$

$$\left\{ \begin{array}{l} e-n=2 \\ e=p+2 \end{array} \right. \Rightarrow (p+2)-n=2 \Rightarrow n-p=0$$

$$\left\{ \begin{array}{l} n=16 \\ p=16 \end{array} \right. \Rightarrow {}_{16}^{16}\text{S}$$

$$A=32 \Rightarrow n+p=32$$

انکون مجموع ذره‌های باردار را در یون‌های  ${}_{14}^{18}\text{Si}^{2-}$  و  ${}_{16}^{16}\text{S}^{2-}$  محاسبه می‌کنیم:

$${}_{14}^{18}\text{Si}^{2-}: p=14, e=16 \Rightarrow \text{مجموع} = 14+16=30$$

$${}_{16}^{16}\text{S}^{2-}: p=16, e=18 \Rightarrow \text{مجموع} = 16+18=34$$

۱۸ ۴ C عبارتهای (الف) و (پ) نادرست می‌باشند. بررسی عبارتهای: عبارت (الف): در یون  ${}_{8}^{18}\text{X}^{-}$ ، مجموع شمار نوترون‌ها و پروتون‌ها برابر ۸ و اختلاف

$$n+p=8, n-p=10 \Rightarrow 2n=90 \Rightarrow n=45, p=35$$

نوترون‌ها و پروتون‌ها برابر ۱۰ است، پس خواهیم داشت:

از آنجایی که در این یون  $(\text{X}^{-})$ ، تعداد الکترون‌ها یک واحد بیشتر از تعداد پروتون‌ها است، پس این یون دارای ۳۶ الکترون بوده و تفاوت نوترون‌ها و الکترون‌های آن برابر ۹ می‌باشد. عبارت (ب): در یون  ${}_{20}^{70}\text{M}^{4+}$ ، مجموع شمار نوترون‌ها و شمار پروتون‌ها برابر ۲۰ و تفاوت تعداد نوترون‌ها و الکترون‌ها برابر ۴۷ است، پس خواهیم داشت:

$$\left\{ \begin{array}{l} n+p=20 \\ n-e=47 \end{array} \right. \xrightarrow{e=p-4} \left\{ \begin{array}{l} n+p=20 \\ n-(p-4)=47 \end{array} \right. \Rightarrow \left\{ \begin{array}{l} n+p=20 \\ n-p=43 \end{array} \right. \Rightarrow p=82$$

پس شمار الکترون‌ها در یون  $\text{X}^{4+}$  برابر  $78(82-4)$  است. عبارت (پ): در یون  ${}_{59}^{122}\text{Z}^{2+}$ ، مجموع تعداد پروتون‌ها و نوترون‌ها برابر ۵۹ و تفاوت شمار نوترون‌ها و الکترون‌ها

$$\text{Z}^{2+} \left\{ \begin{array}{l} n+p=59 \\ n-e=5 \end{array} \right. \xrightarrow{e=p-2} \left\{ \begin{array}{l} n+p=59 \\ n-(p-2)=5 \end{array} \right. \Rightarrow \left\{ \begin{array}{l} n+p=59 \\ n-p=3 \end{array} \right. \Rightarrow n=31$$

برابر ۵ است، پس تعداد ذره‌های بدون بار، یعنی نوترون‌ها در  $\text{Z}^{2+}$  برابر است با:

عبارت (ت): در یون  ${}_{20}^{70}\text{A}^{2+}$ ، مجموع شمار نوترون‌ها با شمار پروتون‌ها برابر ۲۰ بوده و شمار نوترون‌ها،  $\frac{3}{4}$  برابر شمار پروتون‌هاست، همچنین شمار پروتون‌ها دو

$$n+p=200, n=\frac{3}{4}p \Rightarrow \frac{3}{4}p+p=200 \Rightarrow p=80$$

واحد بیشتر از شمار الکترون‌هاست، پس خواهیم داشت:

شمار الکترون‌ها در اتم A با شمار پروتون‌های آن مساوی و برابر ۸۰ است.

۱۹ ۴ A عبارتهای اول، دوم و سوم درست هستند. بررسی عبارتهای: عبارت اول: شیمی دان‌ها ماده‌ای را عنصر می‌نامند که از یک نوع اتم تشکیل شده باشد. عبارت دوم:

یک نمونه طبیعی از عنصر لیتیم دارای دو ایزوتوپ  ${}^6\text{Li}$  و  ${}^7\text{Li}$  به ترتیب با درصد فراوانی ۹۴٪ و ۶٪ می‌باشد. به عبارتی فراوانی ایزوتوپ سنگین‌تر بیشتر است.

عبارت سوم: بررسی‌ها نشان می‌دهد که اغلب در یک نمونه طبیعی از عنصری معین، اتم‌های سازنده جرم یکسانی ندارند. عبارت چهارم: خواص شیمیایی اتم‌های هر عنصر

به عدد اتمی (Z) آن وابسته است، از این رو خواص شیمیایی ایزوتوپ‌های یک عنصر مشابه است. عبارت پنجم: ترتیب درصد فراوانی ایزوتوپ‌های منیزیم در یک نمونه طبیعی از آن به صورت  ${}^{24}\text{Mg} < {}^{26}\text{Mg} < {}^{25}\text{Mg}$  است.

۳۲۵ (A) موارد چهارم و پنجم، جمله را به درستی کامل می‌کنند. ایزوتوپ‌های یک عنصر از نظر تعداد پروتون‌ها، عدد اتمی، تعداد الکترون‌ها، خواص شیمیایی و مکان قرارگیری در جدول تناوبی مشابه یکدیگرند ولی از نظر تعداد نوترون‌ها، خواص فیزیکی وابسته به جرم، درصد فراوانی در طبیعت و پایداری هسته با یکدیگر تفاوت دارند.

★ نکته شباهت‌ها و تفاوت‌های ایزوتوپ‌های یک عنصر:

- شباهت ایزوتوپ‌ها: ۱- عدد اتمی (Z) ۲- تعداد پروتون‌ها ۳- تعداد الکترون‌ها ۴- آرایش الکترونی ۵- خواص شیمیایی ۶- موقعیت در جدول دوره‌ای
- تفاوت ایزوتوپ‌ها: ۱- عدد جرمی (A) ۲- تعداد نوترون‌ها ۳- جرم نسبی ۴- نیم عمر (برای ایزوتوپ‌های پرتوزا) ۵- پایداری نسبی ۶- برخی خواص فیزیکی وابسته به جرم ۷- خواص فیزیکی ترکیب‌های حاصل از آن‌ها ۸- درصد فراوانی

۲۲۱ (B) عبارت‌های (ب) و (ت) نادرست هستند. بررسی عبارت‌ها: عبارت (الف): در ایزوتوپ  ${}^6\text{Li}$ ، نسبت تعداد نوترون‌ها به تعداد پروتون‌ها برابر یک است ولی

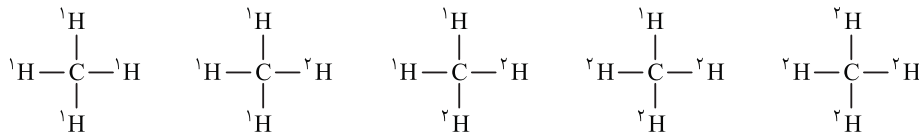
در ایزوتوپ  ${}^7\text{Li}$ ، نسبت تعداد نوترون‌ها به تعداد پروتون‌ها  $\frac{4}{3}$  بوده و بزرگ‌تر از واحد است.  $\frac{47}{50} \times 100 = 94\%$  درصد فراوانی  ${}^7\text{Li}$  در نمونه طبیعی

عبارت (ب): با توجه به توضیحات قسمت (الف)، درصد فراوانی ایزوتوپ  ${}^7\text{Li}$  برابر ۹۴٪ است، پس درصد فراوانی ایزوتوپ  ${}^6\text{Li}$  برابر  $100 - 94 = 6\%$  است.

$$\frac{\text{درصد فراوانی } {}^7\text{Li}}{\text{درصد فراوانی } {}^6\text{Li}} = \frac{94}{6} = 15.7$$

عبارت (ب): ایزوتوپ‌های یک عنصر از نظر خواص شیمیایی و در نتیجه میزان تمایل برای از دست دادن الکترون کاملاً مشابه هستند. در نمونه طبیعی از ایزوتوپ‌های یک عنصر، بیشتر بودن فراوانی یک ایزوتوپ، نشان‌دهنده پایداری بیشتر هسته آن ایزوتوپ است. با توجه به توضیحات ارائه شده و شکل صورت تست، هسته ایزوتوپ سنگین‌تر لیتیم، یعنی  ${}^7\text{Li}$  که فراوانی بیشتری دارد، پایدارتر است. عبارت (ت): در نمونه  ${}^{50}\text{C}$  نشان داده شده در صورت تست، ۳ ایزوتوپ  ${}^6\text{Li}$  وجود دارد که هر یک دارای ۳ نوترون است. به علاوه در این نمونه ۴۷ ایزوتوپ  ${}^7\text{Li}$  وجود دارد که هر یک دارای ۴ نوترون هستند، پس مجموع تعداد نوترون‌ها در چنین نمونه‌ای برابر است با:  $197 = (3 \times 3) + (47 \times 4)$  تعداد کل نوترون‌ها


۲۲۲ (B) قسمت اول: ابتدا انواع مولکول‌های متان با ایزوتوپ  ${}^{12}\text{C}$  و ایزوتوپ‌های  ${}^1\text{H}$  و  ${}^2\text{H}$  را در نظر می‌گیریم:



پس معادل با همین تعداد، مولکول‌هایی با ایزوتوپ  ${}^{13}\text{C}$  و ایزوتوپ‌های  ${}^1\text{H}$  و  ${}^2\text{H}$  وجود دارد و با این ایزوتوپ‌ها مجموعاً دو نوع مولکول متان می‌توان ایجاد نمود.

قسمت دوم:

★ نکته در این تیب سؤالات، اگر عدد جرمی ایزوتوپ‌های همه عناصر داده شده به صورت متوالی (مثل  ${}^{12}\text{A}$ ،  ${}^{13}\text{A}$  و  ${}^{14}\text{A}$ ) بود، برای تعیین شمار مولکول‌های با جرم مولکولی متفاوت، می‌توان از فرمول مقابل استفاده نمود:  $1 + (\text{سبک‌ترین جرم مولکولی}) - (\text{سنگین‌ترین جرم مولکولی}) = \text{تعداد مولکول‌ها با جرم متفاوت}$  ابتدا جرم مولکولی سنگین‌ترین و سبک‌ترین مولکول‌ها را محاسبه می‌کنیم:



شمار مولکول‌های متان با جرم متفاوت برابر  $6 = (21 - 16 + 1)$  است.

۲۳۳ (A) اغلب (نه همه!) هسته‌هایی که نسبت شمار نوترون‌ها به پروتون‌های آن‌ها برابر یا بزرگ‌تر از  $1/5$  باشد، ناپایدار هستند. برای نمونه  ${}^{195}\text{Pt}$ ، دارای ۷۸ پروتون

و ۱۱۷ نوترون بوده و نسبت  $\frac{n}{p}$  آن برابر  $1/5$  است  $(\frac{117}{78})$  است ولی هسته پایدار دارد. بررسی سایر گزینه‌ها: گزینه (۲): به دلیل تلاشی شدن هسته ایزوتوپ‌های ناپایدار

در یک نمونه طبیعی، کمترین درصد فراوانی مربوط به ناپایدارترین ایزوتوپ و بیشترین درصد فراوانی مربوط به پایدارترین ایزوتوپ است. گزینه (۳): هسته ایزوتوپ‌های ناپایدار ماندگار نیستند و اغلب بر اثر تلاشی هسته آن‌ها، ذره‌های پرانرژی و مقادیر زیادی انرژی آزاد می‌شود.

۲۲۴ (C) فقط رابطه دوم برقرار نیست، اغلب هسته‌هایی که نسبت شمار نوترون‌ها به پروتون‌های آن‌ها برابر یا بیش از  $1/5$  است، ناپایدار هستند.  $\frac{n}{p} \geq \frac{3}{2}$  تعداد نوترون‌ها  $\geq \frac{3}{2}$  تعداد پروتون‌ها

بررسی هرکدام از روابط: رابطه اول:  $\frac{n}{p} \geq \frac{3}{2} \Rightarrow \frac{n}{2p} \geq \frac{3}{2} \Rightarrow \frac{n}{p} \geq \frac{3}{2} \Rightarrow \frac{1}{2} \times \frac{n}{p} \geq \frac{3}{4}$  تعداد ذره‌های بدون بار  $\geq \frac{3}{4}$  مجموع ذره‌های باردار

رابطه دوم:  $\frac{n}{p} \geq \frac{3}{2} \Rightarrow \frac{p}{n} \leq \frac{2}{3}$  دو طرف نامعاده را معکوس می‌کنیم.

رابطه سوم:  $\frac{n}{p} \geq \frac{3}{2} \Rightarrow 1 + \frac{n}{Z} \geq \frac{3}{2} \Rightarrow \frac{Z+n}{Z} \geq \frac{5}{2} \Rightarrow \frac{A}{Z} \geq \frac{5}{2} = 2.5$  به دو طرف نامعاده یک واحد اضافه می‌کنیم.

رابطه چهارم:  $\frac{n}{p} \geq \frac{3}{2} \Rightarrow 2 + \frac{n}{p} \geq 2 + \frac{3}{2} \Rightarrow \frac{p+n}{p} \geq \frac{7}{2} = 3.5$  نامعاده دو واحد اضافه می‌کنیم، پس به دو طرف

۱۲۵ C اگر به هسته عنصر  ${}_{18}^{40}\text{X}$  دو پروتون اضافه کنیم، به  ${}_{20}^{42}\text{T}^{2+}$  تبدیل می‌شود که دارای ۲۲ نوترون، ۲۰ پروتون و ۱۸ الکترون است و مجموع ذرات زیراتمی آن برابر با ۶۰ خواهد بود. عنصر  ${}_{a+3}^{2a+3}\text{E}$  نیز دارای  $a$  پروتون،  $a$  الکترون و  $a+3$  نوترون است:

$${}_{a+3}^{2a+3}\text{E} : a = \text{تعداد الکترونها}, a = \text{تعداد پروتونها} \Rightarrow (2a+3) - a = a+3$$

پس در عنصر  ${}_{a+3}^{2a+3}\text{E}$ ، در مجموع  $3a+3$  ذره زیراتمی وجود دارد؛ پس  $a$  برابر است با:

بنابراین  ${}_{19}^{41}\text{E}$  یا  ${}_{19}^{39}\text{B}$  ایزوتوپ (هم‌مکان) است؛ چون عدد اتمی یکسان اما عدد جرمی متفاوتی دارند. توجه داشته باشید که  ${}_{19}^{41}\text{E}$  همان  ${}_{19}^{41}\text{F}$  است؛ زیرا تعداد پروتون‌ها و نوترون‌های هر دو ذره یکسان می‌باشد.

۱۲۶ C اگر  ${}_{x-2}^{9y+1}\text{B}$  ایزوتوپ یکدیگر باشند، عدد اتمی این دو اتم با یکدیگر برابر است، پس خواهیم داشت:

$$(I) \quad 3x - 2 = 4y + 2 \Rightarrow 3x - 4y = 4$$

با توجه به اینکه تعداد نوترون‌ها در اتم  $A$  یک واحد بیشتر از شمار نوترون‌ها در اتم  $B$  است، خواهیم داشت:

$$(II) \quad \left. \begin{aligned} A \text{ اتم} &= \text{تعداد نوترون‌های اتم} = \text{عدد جرمی} - \text{عدد اتمی} = (6x-1) - (4y+2) = 6x - 4y - 3 \\ B \text{ اتم} &= \text{تعداد نوترون‌های اتم} = \text{عدد جرمی} - \text{عدد اتمی} = (9y+1) - (3x-2) = 9y - 3x + 3 \end{aligned} \right\} \Rightarrow (6x - 4y - 3) = (9y - 3x + 3) + 1 \Rightarrow 9x - 13y = 7$$

اکنون با توجه به معادله‌های (I) و (II)، مقدار  $x$  و  $y$  را محاسبه می‌کنیم:

$$\begin{cases} 3x - 4y = 4 \\ 9x - 13y = 7 \end{cases} \xrightarrow[\text{دو معادله - دو مجهول}]{\text{حل دستگاه}} x = 8, y = 5$$

پس حاصل نسبت  $\frac{x}{y}$  برابر  $\frac{8}{5}$  یا  $\frac{1}{6}$  است.

۱۲۷ C پاسخ به پرسش‌ها: پرسش (الف): ایزوتوپ‌های یک عنصر در یک خانه از جدول دوره‌ای قرار دارند، از این رو به آن‌ها هم‌مکان می‌گویند. ایزوتوپ‌های یک عنصر در خواص شیمیایی مشابه یکدیگر هستند، در حالی که خواص فیزیکی وابسته به جرم مانند نقطه ذوب در آن‌ها متفاوت بوده و مجموع شمار ذره‌های زیراتمی (یعنی مجموع تعداد نوترون، پروتون و الکترون) در ایزوتوپ‌ها با یکدیگر متفاوت است. پرسش (ب):

$$\begin{aligned} & \left. \begin{aligned} p &= 28 \\ e &= 28 - 2 = 26 \\ n &= 58 - 28 = 30 \end{aligned} \right\} \Rightarrow \begin{aligned} & \text{تفاوت شمار الکترون‌ها} \\ & = 30 - 26 = 4 \\ & \text{و نوترون‌ها} \end{aligned} \\ & \left. \begin{aligned} p &= 38 \\ e &= 38 \\ n &= 88 - 38 = 50 \end{aligned} \right\} \Rightarrow \begin{aligned} & \text{تفاوت شمار پروتون‌ها} \\ & = 50 - 38 = 12 \\ & \text{و نوترون‌ها} \end{aligned} \end{aligned}$$

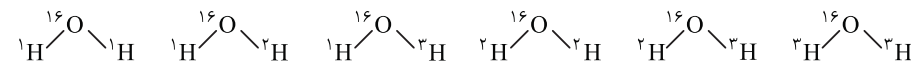
تفاوت شمار الکترون‌ها و نوترون‌ها در یون  ${}_{28}^{58}\text{Ni}^{2+}$ ،  $\frac{1}{3}$  تفاوت شمار پروتون‌ها و نوترون‌ها در  ${}_{38}^{88}\text{Sr}$  است. پرسش (ب): در یون  ${}_{33}^{86}\text{M}^{3-}$ ، ۸۶ الکترون وجود دارد:

$$n - e = 46 \Rightarrow n = 46 + e = 46 + 86 = 132$$

پس تعداد نوترون‌ها برابر است با:

نسبت  $\frac{n}{p}$  در هسته اتم  $M$  حدوداً برابر  $\frac{1}{6}$  ( $\frac{132}{83}$ ) است، پس هسته اتم  $M$  پروتازاست.

۱۲۸ B قسمت اول: ابتدا انواع مولکول‌های آب را با ایزوتوپ‌های هیدروژن ( ${}^1\text{H}$ ،  ${}^2\text{H}$  و  ${}^3\text{H}$ ) و ایزوتوپ  ${}^{16}\text{O}$  در نظر می‌گیریم:



پس معادل با همین تعداد، مولکول‌هایی با ایزوتوپ‌های هیدروژن ( ${}^1\text{H}$ ،  ${}^2\text{H}$  و  ${}^3\text{H}$ ) و ایزوتوپ  ${}^{17}\text{O}$  داریم، یعنی با این ایزوتوپ‌ها مجموعاً ۱۲ نوع مولکول  $\text{H}_2\text{O}$  می‌توان

داشت. قسمت دوم: با توجه به پرسش، ایزوتوپ  ${}^3\text{H}$  و ایزوتوپ  ${}^{17}\text{O}$  پایدار و فراوانی کمتری دارند. از این رو ناپایدارترین مولکول در این شرایط،  ${}^3\text{H}^{17}\text{O}$  می‌باشد. از آنجایی که شمار نوترون‌ها در  ${}^{17}\text{O}$  برابر ۹ بوده و در  ${}^3\text{H}$  برابر ۲ می‌باشد، پس مجموع نوترون‌ها در ناپایدارترین مولکول آب برابر ۱۳ است.

۱۲۹ C عبارت‌های دوم، سوم و چهارم نادرست هستند. از آنجایی که شمار الکترون‌های یون‌های  $X^+$  و  $Y^-$  با یکدیگر برابر بوده و عدد جرمی  $X$ ، ۴ واحد بیشتر از  $Y$  است، پس تعداد پروتون‌های اتم  $X$ ، دو واحد بیشتر از تعداد پروتون‌های اتم  $Y$  می‌باشد، و تعداد نوترون‌های  $X$  نیز دو واحد از تعداد نوترون‌های  $Y$  بیشتر است. بررسی عبارت‌ها: عبارت اول: همان‌طور که در بالا گفته شد، تفاوت تعداد نوترون‌ها برابر ۲ است. عبارت دوم: این دو عنصر عدد اتمی و عدد جرمی متفاوتی دارند و ایزوتوپ یکدیگر نیستند و در خواص شیمیایی و فیزیکی با یکدیگر تفاوت دارند. عبارت سوم: همان‌طور که گفته شد، تعداد پروتون‌ها در هسته اتم  $X$ ، دو واحد بیشتر از اتم  $Y$  است؛ از این رو عدد اتمی  $Y$ ، دو واحد کمتر از عدد اتمی  $X$  می‌باشد. عبارت چهارم: اغلب هسته‌هایی که نسبت شمار نوترون‌ها به پروتون‌های آن برابر یا بیش از  $1/5$  باشد ناپایدارتر هستند، نسبت  $\frac{n}{p}$  در هیچ کدام از این عناصر مشخص نیست!

۱۳۰ C عبارت‌های اول و سوم درست هستند. با توجه به بار یون  $M^{2+}$ ، شمار پروتون‌ها دو واحد بیشتر از شمار الکترون‌هاست؛ از این رو با توجه به داده‌های مسئله

$$\left\{ \begin{aligned} n+p &= 25 \\ n-e &= 3 \end{aligned} \right. \xrightarrow{e=p-2} \left\{ \begin{aligned} n+p &= 25 \\ n-(p-2) &= 3 \end{aligned} \right. \Rightarrow \left\{ \begin{aligned} n+p &= 25 \\ n-p &= 1 \end{aligned} \right. \Rightarrow p=12, n=13$$

می‌توان شمار ذرات زیراتمی  $M$  را حساب کرد: روش اول (تشریحی):